

คำชี้แจง ให้นักเรียนเลือกคำตอบที่ถูกต้องที่สุดเพียงข้อเดียว

1. ทักษะการจัดการในการทำงานมีประโยชน์อย่างไร
 - ก. ช่วยให้ทำงานเสร็จอย่างรวดเร็ว
 - ข. ช่วยให้ผู้ร่วมงานเกิดความพึงพอใจ
 - ค. ช่วยให้ทราบล่วงหน้าว่าต้องทำอะไร เมื่อใด
 - ง. ช่วยให้ผู้ร่วมงานเลือกงานที่ตนเองถนัดไปทำก่อน
2. การทำความสะอาดภาชนะควรล้างสิ่งใดเป็นอันดับแรก
 - ก. กระทะ
 - ข. แก้วน้ำ
 - ค. จานชาม
 - ง. ช้อนส้อม
3. นักเรียนควรทำความสะอาดเตาแก๊สเมื่อใด
 - ก. ทุกๆ 7-10 วัน
 - ข. ขณะทำอาหาร
 - ค. หลังจากทำอาหารเสร็จทันที
 - ง. หลังจากปิดเตาแก๊สแล้วสักครู่หนึ่ง
4. เพราะเหตุใด เราจึงต้องกวาดเศษอาหารที่ตกค้างในอ่างล้างภาชนะทิ้งลงในถังขยะ
 - ก. เพื่อไม่ให้เกิดกลิ่นรบกวน
 - ข. เพื่อป้องกันการอุดตันของท่อน้ำ
 - ค. เพื่อไม่ให้เป็นที่สะสมของเชื้อโรค
 - ง. เพื่อให้เกิดความเป็นระเบียบเรียบร้อย
5. ใครกำจัดกลิ่นในตู้เย็นได้เหมาะสมที่สุด
 - ก. มีนใส่ใบเตยไว้ในตู้เย็น
 - ข. แมนใส่ก้อนดับกลิ่นในตู้เย็น
 - ค. มาร์คนำถ่านไม้ใส่ไว้ในตู้เย็น
 - ง. มดฉีดสเปรย์ปรับอากาศในตู้เย็น
6. นักเรียนควรจัดเก็บเนื้อสัตว์ไว้ในส่วนใดของตู้เย็น
 - ก. ฝาตู้เย็น
 - ข. ช่องแช่ผัก
 - ค. ช่องแช่แข็ง
 - ง. ใต้ถาดแช่แข็ง
7. ห้องครัวควรอยู่ส่วนใดของบ้าน
 - ก. ด้านหลัง
 - ข. ด้านหน้า
 - ค. ตรงกลางบ้าน
 - ง. ตรงส่วนใดก็ได้
8. สิ่งใดใช้จัดตกแต่งโต๊ะอาหารได้เหมาะสมที่สุด
 - ก. น้ำพุ
 - ข. ตู้ปลา
 - ค. สวนถาด
 - ง. แจกันดอกไม้
9. อุปกรณ์ใดเหมาะสำหรับขัดอ่างน้ำในห้องน้ำ
 - ก. ฟองน้ำ
 - ข. แผ่นขัด
 - ค. แปรงขัดพื้น
 - ง. แปรงขัดส้วม
10. ถ้าต้องการให้พี่ช่วยทำงานบ้านควรพูดอย่างไรจึงจะเหมาะสมที่สุด
 - ก. พี่ทำงานบ้านแทนหนูหน่อย
 - ข. พี่มาช่วยหนูทำงานบ้านหน่อย
 - ค. พี่ช่วยหนูทำงานบ้านหน่อยได้ไหม
 - ง. พี่คะ ช่วยหนูทำงานบ้านหน่อยนะคะ

มฐ. ง 1.1 ป.5/2-4

ได้คะแนน





คะแนนเต็ม

10

เฉลย

1. ค 2. ข 3. ง 4. ข 5. ค 6. ค 7. ก 8. ง 9. ก 10. ง

คำชี้แจง ให้นักเรียนเลือกคำตอบที่ถูกต้องที่สุดเพียงข้อเดียว

1. เพราะเหตุใดก่อนซักผ้าจึงต้องแยกผ้าขาวออกจากผ้าสี
 - ก. เพื่อให้สีเสื้อผ้าไม่ซีดจาง
 - ข. เพื่อความสะดวกในการซักเสื้อผ้า
 - ค. เพื่อให้ซักเสื้อผ้าได้สะอาดหมดจด
 - ง. เพื่อป้องกันสีจากเสื้อผ้าอื่นๆ ตกใส่เสื้อผ้าสีขาว
2. ใครใช้น้ำในการซักเสื้อผ้าได้ประหยัด คุ่มค่ามากที่สุด
 - ก. ไม้ซักเสื้อผ้าครั้งละ 2-3 ชิ้น
 - ข. จะนำน้ำที่แช่เสื้อผ้ามาซักผ้า
 - ค. วนำน้ำซักผ้าครั้งสุดท้ายไปรดน้ำต้นไม้
 - ง. ตีบแต่เปิดน้ำไหลทิ้งตลอดเวลาที่ซักผ้า
3. ขั้นตอนการรีดเสื้อผ้าที่ถูกต้องคือข้อใด
 - ก. รีดปก รีดตัวเสื้อ รีดแขน
 - ข. รีดปก รีดแขน รีดตัวเสื้อ
 - ค. รีดตัวเสื้อ รีดปก รีดแขน
 - ง. รีดแขน รีดปก รีดตัวเสื้อ
4. เสื้อผ้าชุดใดไม่จำเป็นต้องรีด
 - ก. 
 - ข. 
 - ค. 
 - ง. 
5. เพราะเหตุใด เราจึงควรจัดเก็บเสื้อผ้าให้เป็นระเบียบเรียบร้อย
 - ก. เพื่อความหรูหรา
 - ข. เพื่อให้เสื้อผ้าสีสด ไม่ซีดจาง
 - ค. เพื่อให้สะดวกในการหยิบใช้งาน
 - ง. เพื่อให้ได้รับคำชมเชยจากผู้ปกครอง
6. การเนาเฉลี่ยมีลักษณะอย่างไร
 - ก. การเนาตะเข็บ
 - ข. การเนาผ้าสองชั้นตามแนวทแยงให้ติดกัน
 - ค. การเนาที่มีความถี่และความห่างของฝีเข็มเท่ากัน
 - ง. การเนาที่มีความถี่และความห่างของฝีเข็มสลับกัน
7. การดันตะลุยมักมีลักษณะคล้ายการเนาอย่างไร
 - ก. ลักษณะการเย็บ
 - ข. ความถี่ของฝีเข็ม
 - ค. ความห่างของฝีเข็ม
 - ง. ระยะห่างของเส้นด้าย
8. นักเรียนจะเลือกการสอยผ้าแบบใดในการสอยชายเสื้อและกางเกงที่เป็นผ้ายืด
 - ก. การสอยพันแมว
 - ข. การสอยพันปลา
 - ค. การสอยซ่อนด้าย
 - ง. การสอยหลบหลังคา
9. การดันแบบใดนิยมใช้เย็บผ้าโดยทั่วไป
 - ก. การดันตะลุย
 - ข. การดันเดินหน้า
 - ค. การดันถอยหลัง
 - ง. การดันหลบหลังคา
10. การซ่อมแซมเสื้อผ้าชำรุดด้วยตนเองมีประโยชน์อย่างไร
 - ก. ช่วยให้ไม่มีเวลาว่าง
 - ข. ช่วยให้ผู้ปกครองภูมิใจในตัวเรา
 - ค. ช่วยให้เสื้อผ้าแปลกใหม่ไม่ซ้ำใคร
 - ง. ช่วยประหยัดรายจ่ายในการซื้อเสื้อผ้าให้ผู้ปกครอง

มฐ. ง 1.1 ป.5/1, 4

ได้คะแนน	คะแนนเต็ม
	10

เฉลย

1. ง 2. ค 3. ก 4. ข 5. ค 6. ข 7. ก 8. ข 9. ค 10. ง

คำชี้แจง ให้นักเรียนเลือกคำตอบที่ถูกต้องที่สุดเพียงข้อเดียว

1. งานเกษตรมีความสำคัญต่อนักเรียนอย่างไร
 - ก. ทำรายได้เข้าประเทศ
 - ข. สร้างอาชีพให้คนในชุมชน
 - ค. ทำให้มีอาหารไว้รับประทาน
 - ง. ทำให้มีพืชเศรษฐกิจส่งออกต่างประเทศ
2. ปุ๋ยต้องการตัดดอกไม้ไปใส่แจกัน ปุ๋ยควรใช้เครื่องมือเกษตรใด
 - ก. มีดตายหญ้า
 - ข. กรรไกรตัดกิ่ง
 - ค. มีดเก็บเกี่ยวผลไม้
 - ง. กรรไกรสำหรับเก็บผลและดอก
3. เพราะเหตุใดจึงควรตรวจสอบสภาพเครื่องมือเกษตรให้เข้าใจก่อนใช้งาน
 - ก. เพื่อความถนัดของผู้ใช้
 - ข. เพื่อความปลอดภัยของผู้ใช้
 - ค. เพื่อความสะดวกของเครื่องมือ
 - ง. เพื่อความสะดวกสบายของผู้ใช้
4. ถ้าจะไถพรวนเครื่องมือเกษตรที่ชำรุด แต่ไม่สามารถซ่อมแซมได้ด้วยตนเอง จะไถควรทำอย่างไร
 - ก. บอกคุณพ่อคุณแม่ให้ทราบ
 - ข. นำเครื่องมือเกษตรนั้นไปทิ้ง
 - ค. หาซื้อเครื่องมือเกษตรอันใหม่
 - ง. นำไปเก็บไว้ในห้องเก็บเครื่องมือเกษตร
5. ใครใช้และเก็บรักษาเครื่องมือเกษตรได้ถูกต้อง
 - ก. หมิวใช้คราดตักดิน
 - ข. เบสใช้พลั่วเสร็จแล้ววางไว้ที่แปลงปลูก
 - ค. อิงนำมีดตายหญ้าที่ตำหลุมมาลัดกิ่งไม้
 - ง. โซดาไม่เล่นหยอกล้อกับเฟนขณะตายหญ้า
6. เพราะเหตุใด ดินร่วนจึงเหมาะต่อการปลูกพืชทั่วไป
 - ก. เพราะมีช่องว่างระหว่างเม็ดดินใหญ่
 - ข. เพราะเก็บและระบายน้ำได้ดีพอสมควร
 - ค. เพราะเนื้อดินหยาบ ร่วน และไม่เกาะกัน
 - ง. เพราะเนื้อดินละเอียด และอุ้มน้ำได้ดีมาก
7. ดินเป็นแหล่งเก็บอาหารของต้นพืชอย่างไร
 - ก. เป็นที่อุ้มน้ำให้ต้นพืช
 - ข. เป็นที่รวมจุลินทรีย์นานาชนิด
 - ค. เป็นที่รวมธาตุอาหารที่พืชต้องการ
 - ง. เป็นที่รวบรวมสิ่งมีชีวิตขนาดเล็กนานาชนิด
8. ปุ๋ยพืชสดมีลักษณะอย่างไร
 - ก. ปุ๋ยที่ได้จากมูลของสัตว์
 - ข. ปุ๋ยที่เกิดจากการหมักเศษพืช
 - ค. ปุ๋ยที่มีธาตุอาหารครบทั้ง 3 ธาตุ
 - ง. ปุ๋ยที่ได้จากการไถกลบพืชลงไปบนดิน
9. ถ้าดินที่บ้านของนักเรียนมีสภาพไม่ค่อยดี นักเรียนจะเลือกใช้ปุ๋ยชนิดใดใส่ดิน
 - ก. ปุ๋ยหมัก
 - ข. ปุ๋ยพืชสด
 - ค. ปุ๋ยชีวภาพ
 - ง. ปุ๋ยอินทรีย์
10. เพราะเหตุใด เกษตรกรจึงนิยมใช้ปุ๋ยอินทรีย์กันมากขึ้น
 - ก. มีธาตุอาหารมาก
 - ข. ใช้ง่าย และราคาถูก
 - ค. ผลิตได้เองโดยไม่ต้องซื้อ
 - ง. ไม่เป็นอันตรายต่อสิ่งแวดล้อม

มฐ. ง 1.1 ป.5/1

ได้คะแนน

คะแนนเต็ม

10

เฉลย

1. ค 2. ง 3. ข 4. ก 5. ง 6. ข 7. ค 8. ง 9. ค 10. ก

คำชี้แจง ให้นักเรียนเลือกคำตอบที่ถูกต้องที่สุดเพียงข้อเดียว

1. การขยายพันธุ์ผักสวนครัวด้วยการแบ่งและแยกส่วนต่าง ๆ เหมาะกับผักสวนครัวที่มีลักษณะแบบใด
 - ก. มีเมล็ด
 - ข. มีลูกผล
 - ค. เป็นไม้เลื้อย
 - ง. เป็นหัวหรือหน่อ
2. ช่วงเวลาที่เหมาะสมมีความสำคัญต่อการปลูกผักสวนครัวอย่างไร
 - ก. ช่วยให้ผักสวนครัวเจริญเติบโตได้ดี
 - ข. ช่วยให้ปลูกผักสวนครัวขายได้ราคาดี
 - ค. ช่วยให้ผักสวนครัวไม่ถูกน้ำท่วม จนตาย
 - ง. ช่วยให้ประหยัดค่าใช้จ่ายในการปลูกผักสวนครัว
3. เพราะเหตุใดจึงต้องขุดพลิกดินด้านล่างขึ้นมาตากไว้ก่อนลงมือปลูกผักสวนครัว
 - ก. เพื่อให้ดินแข็ง
 - ข. เพื่อฆ่าเชื้อโรคในดิน
 - ค. เพื่อให้พรวนดินได้ง่าย
 - ง. เพื่อให้สะดวกในการยกทรงแปลงผัก
4. การพรวนดินเป็นการสร้างความชุ่มชื้นในดินอย่างไร
 - ก. ช่วยให้ดินร่วนซุย และอุ้มน้ำได้ดี
 - ข. ช่วยให้ดินมีความชื้นมากกว่าอากาศภายนอก
 - ค. ช่วยให้ดินมีช่องว่างระบายน้ำไปด้านล่างมากขึ้น
 - ง. ช่วยให้ดินมีช่องว่างกักเก็บความชื้นจากอากาศได้ดี
5. การรดน้ำผักสวนครัวมากเกินไปจะเกิดผลอย่างไร
 - ก. ใบเน่า
 - ข. ผลเน่า
 - ค. รากเน่า
 - ง. กิ่งก้านเน่า
6. การเก็บเกี่ยวผักสวนครัวควรใช้เวลาใด
 - ก. เช้าและค่ำ
 - ข. เช้าและเย็น
 - ค. ป่ายและเย็น
 - ง. เช้าและเที่ยง
7. ใครใช้พลังงานและทรัพยากรในการปลูกผักสวนครัวได้เหมาะสมที่สุด
 - ก. บัวทำปุ๋ยหมักใช้เอง
 - ข. ปีกใช้สารเคมีปราบศัตรูพืช
 - ค. จะซื้อปุ๋ยราคาแพงจากร้านค้า
 - ง. หนุ่ยซื้อเมล็ดพันธุ์ผักราคาแพงมาปลูก
8. ข้อใดเป็นการรดน้ำผักสวนครัวโดยไม่ประหยัด
 - ก. ทำระบบการรดน้ำแบบฝอย
 - ข. เปิดน้ำแรงๆ ทิ้งไว้ในแปลงปลูก
 - ค. รองน้ำใส่ถัง แล้วใช้ขันตักรดน้ำต้นไม้
 - ง. นำน้ำสุดท้ายของการซักผ้ามารดน้ำต้นไม้
9. ใครนำผลผลิตไปใช้ประโยชน์ได้เหมาะสม
 - ก. อาทิตย์ปล่อยผลผลิตให้แก่กาดต้น
 - ข. รุ่งนำผลผลิตที่รับประทานไม่หมดไปทิ้ง
 - ค. ฟ่านำผลผลิตไปแบ่งปันเพื่อนที่โรงเรียน
 - ง. เมฆปล่อยผลผลิตให้เน่า แล้วค่อยเอาไปทิ้ง
10. การเก็บเกี่ยวผักสวนครัวในข้อใดถูกต้อง
 - ก. เก็บกวางตุ้งมาตากแดด เพื่อฆ่าเชื้อโรค
 - ข. ใช้มีดคมๆ ตัดคะน้ำ เพื่อป้องกันคะน้ำซ้ำ
 - ค. พรมน้ำกระเทียมให้ชุ่ม เพื่อป้องกันกระเทียมเหี่ยว
 - ง. วางกะหล่ำปลีซ้อนกันหลายๆ ชั้น เพื่อให้ประหยัดพื้นที่ในการจัดเก็บ

มฐ. ง 1.1 ป.5/1, 4

ได้คะแนน

คะแนนเต็ม

10

เฉลย

1. ง 2. ก 3. ข 4. ก 5. ค 6. ข 7. ก 8. ข 9. ค 10. ข

คำชี้แจง ให้นักเรียนเลือกคำตอบที่ถูกต้องที่สุดเพียงข้อเดียว

1. งานใดที่นักเรียนสามารถทำได้ด้วยตนเอง
 - ก. ซ่อมตู้เย็น
 - ข. เดินสายไฟในบ้าน
 - ค. ทำความสะอาดพัดลม
 - ง. เปลี่ยนหลอดไฟในห้องน้ำ
2. เพราะเหตุใดจึงควรวางตู้เย็นให้ห่างจากฝาผนัง
 - ก. เพื่อให้ถูกสุขอนามัย
 - ข. เพื่อระบายความร้อน
 - ค. เพื่อให้ใช้งานได้สะดวก
 - ง. เพื่อป้องกันฝาผนังร้อน
3. ใครซ่อมแซมแก๊อที่ชำรุดได้เหมาะสมที่สุด
 - ก. อุ้มใช้กาวติดบริเวณที่หลุดให้ติดกัน
 - ข. เอ็กซีใช้ลวดมัดบริเวณที่หลุดให้ติดกัน
 - ค. อยู่ใช้ฉีพอกซีติดบริเวณที่หลุดให้ติดกัน
 - ง. แอ้มใช้ค้อนตอกตะปูบริเวณที่หลุดให้ติดกัน
4. การซ่อมแซมของใช้ต่างๆ ภายในบ้านมีประโยชน์
 - ก. ช่วยให้ประหยัดค่าใช้จ่าย
 - ข. ทำให้มีของใช้ภายในบ้านเพิ่มขึ้น
 - ค. ทำให้มีรายได้ระหว่างเรียนเพิ่มขึ้น
 - ง. ทำให้ของใช้มีคุณภาพดีเหมือนกับของใหม่
5. เพราะเหตุใดจึงใช้ฉีพอกซีซ่อมแซมท่อประปารั่ว
 - ก. เพราะฉีพอกซีมีราคาถูก
 - ข. เพราะฉีพอกซีไม่ละลายน้ำ
 - ค. เพราะฉีพอกซีมีคุณสมบัติในการยึดเกาะสูง ทนต่อสารเคมีและน้ำ
 - ง. เพราะฉีพอกซีทนต่อสภาพภูมิอากาศ และปลอดภัยต่อสิ่งแวดล้อม
6. ใครใช้พลังงานและทรัพยากรอย่างประหยัด คุ่มค่า
 - ก. ปลางดีใช้ไฟฟ้าในการทำงานช่างทุกประเภท
 - ข. เป้เปิดตู้เย็นทิ้งไว้แทนการใช้เครื่องปรับอากาศ
 - ค. แป๋วนำสิ่งของเครื่องใช้ที่ชำรุดไปทิ้ง แล้วหาซื้อใหม่
 - ง. เป็กซ์ตรวจพบการรั่วซึมของท่อน้ำ แล้วรีบซ่อมแซม
7. เมื่อพบของใช้ชำรุดควรปฏิบัติสิ่งใดเป็นอันดับแรก
 - ก. ลงมือซ่อมแซมทันที
 - ข. ตรวจสอบลักษณะการชำรุด
 - ค. ประเมินผลงานการซ่อมแซม
 - ง. เตรียมอุปกรณ์ที่ใช้ในการซ่อมแซม
8. ภาพร่าง 3 มิติ มีลักษณะอย่างไร
 - ก. สามารถจับต้องได้
 - ข. มองเห็นเพียงด้านเดียว
 - ค. มองเห็นความกว้าง ลึก และยาว
 - ง. มองเห็นรายละเอียดชัดเจนเหมือนจริง
9. ถ้าต้องการให้งานเสร็จเร็ว และมีข้อผิดพลาดน้อยควรทำ
 - ก. วางแผนก่อนทำงาน
 - ข. ใช้เวลาทำงานมากๆ
 - ค. หาผู้ร่วมงานหลายๆ คน
 - ง. ใช้เครื่องจักรทำงานแทน
10. วัสดุใดสามารถสร้างนาฬิกาแขวนผนังได้เหมาะสมที่สุด
 - ก. ขดลวด
 - ข. ลังไม้อัด
 - ค. กะลามะพร้าว
 - ง. แกนกระดาษชำระ

มฐ. ง 1.1 ป.5/2, 4
ง 2.1 ป.5/2, 3

ได้คะแนน

คะแนนเต็ม

10

เฉลย

1. ค 2. ข 3. ง 4. ก 5. ค 6. ง 7. ข 8. ค 9. ก 10. ข

คำชี้แจง ให้นักเรียนเลือกคำตอบที่ถูกต้องที่สุดเพียงข้อเดียว

1. เทคโนโลยีใดเกิดมาจากความจำเป็นในการดำรงชีวิต
 - ก. ระบบ GPS
 - ข. คอมพิวเตอร์
 - ค. เทคโนโลยีเกี่ยวกับสิ่งทอ
 - ง. ระบบการตรวจพิสัยทางไกล
2. วิศวกรรมการของเทคโนโลยีประเภทต่างๆ มีประโยชน์อย่างไร
 - ก. เพื่อให้เกิดเทคโนโลยีใหม่ๆ
 - ข. เพื่อตอบสนองความต้องการของมนุษย์
 - ค. เพื่อให้ผู้สร้างเทคโนโลยีมีรายได้มากขึ้น
 - ง. เพื่อให้ผู้สร้างเทคโนโลยีเป็นนักประดิษฐ์
3. ข้อใดแสดงถึงวิวัฒนาการของเทคโนโลยี
 - ก. ผู้คนมีอายุสั้นลง
 - ข. สินค้ามีราคาแพงขึ้น
 - ค. ผลิตภัณฑ์ของเลียนแบบได้เหมือนของจริง
 - ง. การเดินทางมีความสะดวกรวดเร็วมากขึ้น
4. การกระทำใดแสดงถึงการมีความคิดละเอียดลออในการทำงานประดิษฐ์
 - ก. การทดลองผลงานที่ประดิษฐ์ขึ้น
 - ข. การคิดประดิษฐ์ผลงานใหม่ไม่ให้ซ้ำใคร
 - ค. การตกแต่งงานประดิษฐ์ที่เสร็จแล้วให้สมบูรณ์ยิ่งขึ้น
 - ง. การศึกษาข้อดีและข้อเสียของงานประดิษฐ์ที่เคยมีคนทำมาก่อน
5. ข้อใดกล่าวถึงเทคโนโลยีสะอาดได้อย่างถูกต้อง
 - ก. สิ่งของเครื่องใช้เกี่ยวกับเทคโนโลยีที่สะอาด
 - ข. สิ่งของเครื่องใช้เกี่ยวกับเทคโนโลยีที่ทันสมัย
 - ค. สิ่งของเครื่องใช้เกี่ยวกับเทคโนโลยีในการทำมาค้าขาย
 - ง. วิธีการปรับปรุง พัฒนาผลิตภัณฑ์ เพื่อประโยชน์ต่อมนุษย์และสิ่งแวดล้อม
6. งานประดิษฐ์ใดเป็นการนำวัสดุที่มีอย่างจำกัดมาใช้ให้เกิดประโยชน์คุ้มค่ามากที่สุด
 - ก. ตุ๊กตาปูนปั้น
 - ข. ชุดตุ๊กตาจากผ้าไหม
 - ค. กรอบรูปจากลังกระดาษ
 - ง. หมวกจากไหมพรมราคาแพง
7. ใครมีความคิดสร้างสรรค์ในการทำงานประดิษฐ์
 - ก. มิ่งประดิษฐ์งานประดิษฐ์โดยเลียนแบบเพื่อน
 - ข. หมิวประดิษฐ์งานประดิษฐ์ที่ไม่เคยมีใครทำมาก่อน
 - ค. แมวเก็บวัสดุที่ใช้ในการทำงานประดิษฐ์ให้เรียบร้อย
 - ง. โจ้ให้เพื่อนช่วยทำงานประดิษฐ์เพื่อให้งานเสร็จเร็ว
8. มั่นคิดของประดับตกแต่งหลายๆ แบบ ไม่ให้ซ้ำใคร เป็นการใช้ความคิดสร้างสรรค์ลักษณะใดบ้าง
 - ก. ความคิดริเริ่ม ความคล่องในการคิด
 - ข. ความคิดละเอียดลออ ความคิดริเริ่ม
 - ค. ความยืดหยุ่นในการคิด ความคิดริเริ่ม
 - ง. ความคล่องในการคิด ความคิดละเอียดลออ
9. ใครปฏิบัติตนตามหลัก Repair
 - ก. ดีซอมแซมเสื้อผ้าที่ชำรุด
 - ข. นุ่นใช้ถุงผ้าแทนถุงพลาสติก
 - ค. ไอ้ใช้ทรัพยากรอย่างประหยัด
 - ง. กิ๊ฟใช้ถุงพลาสติกที่เคยใช้แล้วใส่สิ่งของ
10. วัสดุใดสามารถนำมาประดิษฐ์เป็นสิ่งของเพื่อใช้งานได้
 - ก. วัสดุราคาแพง
 - ข. วัสดุที่ไม่เน่าเสีย
 - ค. วัสดุที่มีวันหมดอายุ
 - ง. วัสดุที่ย่อยสลายตามธรรมชาติ

มฐ. ง 1.1 ป.5/2, 4
ง 2.1 ป.5/1, 4-5

ได้คะแนน	คะแนนเต็ม
	10

เฉลย

1. ค 2. ข 3. ง 4. ค 5. ง 6. ค 7. ข 8. ค 9. ก 10. ข

คำชี้แจง ให้นักเรียนเลือกคำตอบที่ถูกต้องที่สุดเพียงข้อเดียว

1. งานธุรกิจช่วยพัฒนาเศรษฐกิจของประเทศได้อย่างไร
 - ก. เก็บภาษีได้สูงขึ้น
 - ข. ลดหย่อนภาษีให้น้อยลง
 - ค. นำรายได้เข้าสู่ประเทศเพิ่มมากขึ้น
 - ง. เป็นแหล่งเงินทุนสำรองให้ประเทศ
2. การจัดทำบัญชีเพื่อวิเคราะห์ผลกำไรหรือขาดทุน มีประโยชน์อย่างไร
 - ก. ช่วยสร้างกำลังใจในการทำธุรกิจ
 - ข. ช่วยให้ปรับปรุงแก้ไขธุรกิจให้ดียิ่งขึ้น
 - ค. ช่วยให้รู้ว่าควรดำเนินธุรกิจต่อไปหรือไม่
 - ง. ช่วยให้รู้ว่าจะต้องเพิ่มหรือลดจำนวนแรงงาน
3. สิ่งใดเป็นทรัพยากรในการประกอบธุรกิจ
 - ก. คน
 - ข. เงิน
 - ค. วัตถุดิบ
 - ง. เครื่องจักร
4. กระบวนการต้องการทำธุรกิจ 1 ธุรกิจ สิ่งแรกที่กระเด็น ควรปฏิบัติคืออะไร
 - ก. หาหุ้นส่วน
 - ข. รวบรวมเงินทุนทั้งหมดที่มี
 - ค. หาทำเลที่ตั้งในการทำธุรกิจ
 - ง. สืบหาความต้องการของตลาด
5. ใครมีคุณลักษณะของผู้ประกอบธุรกิจที่ดี
 - ก. ฝ่ายเก็บเงินที่ลูกค้าให้เกินมาไว้เป็นของตนเอง
 - ข. คิมตั้งใจจัดดอกไม้ให้สวยงาม แล้วนำไปส่งลูกค้า
 - ค. ทราายนำอาหารค้างคืนมาอุ่นให้ลูกค้ารับประทาน
 - ง. แพรวแอบเก็บโทรศัพท์เคลื่อนที่ของลูกค้าที่ลืมไว้
6. เพราะเหตุใด นักเรียนจึงควรทำบัญชีครัวเรือน
 - ก. เพื่อตัดรายจ่ายที่ฟุ่มเฟือยออก
 - ข. เพื่อจะได้หมุนเงินในแต่ละเดือนทัน
 - ค. เพื่อเป็นแนวทางในการหารายได้พิเศษ
 - ง. เพื่อจะรู้ว่าจะต้องขอเงินคุณพ่อคุณแม่เพิ่มอีกเท่าไร
7. การทำบัญชีครัวเรือนส่งเสริมคุณธรรมด้านใด
 - ก. ขยัน
 - ข. อุตุน
 - ค. ประหยัด
 - ง. ใฝ่เรียนรู้
8. เอกสารสำคัญใดควรเก็บไว้ในที่เดียวกัน
 - ก. สูติบัตร ใบรับประกันสินค้า
 - ข. สมุดเงินฝาก สำเนาทะเบียนบ้าน
 - ค. สมุดเงินฝาก บัตรประจำตัวประชาชน
 - ง. บัตรประจำตัวประชาชน ใบอนุญาตขับรถ
9. ใครเก็บเอกสารสำคัญไม่ถูกต้อง
 - ก. พิชเก็บสูติบัตรไว้ในกระเป๋านักเรียน
 - ข. หนึ่งเก็บบัตรประจำตัวนักเรียนไว้ในกระเป๋าสตางค์
 - ค. กันเก็บโฉนดที่ดินไว้ในซองเอกสาร แล้วเก็บใส่ตู้เซฟ
 - ง. เบนซ์เก็บสำเนาทะเบียนบ้านไว้ในซองเอกสาร แล้วใส่ลิ้นชัก
10. เอกสารสำคัญใดควรพกติดตัวไว้เสมอ
 - ก. สูติบัตร
 - ข. สมุดเงินฝาก
 - ค. สำเนาทะเบียนบ้าน
 - ง. บัตรประจำตัวประชาชน

มฐ. ง 1.1 ป.5/1-2

ได้คะแนน

คะแนนเต็ม

10

เฉลย

1. ค 2. ข 3. ค 4. ง 5. ข 6. ก 7. ค 8. ง 9. ก 10. ง

คำชี้แจง ให้นักเรียนเลือกคำตอบที่ถูกต้องที่สุดเพียงข้อเดียว

1. ผู้ประกอบอาชีพอิสระจะมีรายได้อย่างไร
 - ก. รายได้ไม่แน่นอน
 - ข. รายได้จากค่าบริการ
 - ค. รายได้แน่นอนทุกเดือน
 - ง. รายได้จากดอกเบี้ยเงินฝากในธนาคาร
2. ผู้ประกอบอาชีพรับจ้างควรมีลักษณะอย่างไร
 - ก. เป็นผู้มีความสามารถหลายอย่าง
 - ข. ใช้กำลังกายเป็นหลักในการประกอบอาชีพ
 - ค. กำหนดรูปแบบการประกอบอาชีพได้อย่างอิสระ
 - ง. มีความสามารถเฉพาะด้าน และมีความรู้ในวิชาชีพอย่างใดอย่างหนึ่ง
3. อาชีพใดต้องค้นคว้าหาความรู้ใหม่ๆ อยู่เสมอ
 - ก. ตำรวจ
 - ข. เกษตรกร
 - ค. คุณครู/อาจารย์
 - ง. พนักงานโรงงาน
4. การประกอบอาชีพสุจริตมีประโยชน์อย่างไร
 - ก. มีชื่อเสียงโด่งดัง
 - ข. มีผู้คนให้ความนับถือ
 - ค. มีสินค้าส่งออกสู่ท้องตลาด
 - ง. มีรายได้เลี้ยงตนเองและครอบครัวอย่างถูกกฎหมาย
5. อาชีพใดมีรายได้แตกต่างจากอาชีพอื่น
 - ก. แม่ค้า
 - ข. ตำรวจ
 - ค. นักเขียน
 - ง. ช่างเสริมสวย
6. อาชีพแบบใดควรเลือกทำมากที่สุด
 - ก. อาชีพสุจริตที่มีความเสี่ยงน้อย
 - ข. อาชีพที่มีคนทำเป็นจำนวนมาก
 - ค. อาชีพที่ยากทำ แต่ทำงานไม่เป็นเวลา
 - ง. อาชีพที่มีรายได้มาก แต่มีความเสี่ยงสูง
7. ข้อใดกล่าวไม่ถูกต้อง
 - ก. อาชีพรับจ้างประกอบด้วยผู้ว่าจ้างและผู้รับจ้าง
 - ข. อาชีพสุจริตทุกอาชีพมีความสำคัญเท่าเทียมกัน
 - ค. ทุกอาชีพควรเห็นแก่ประโยชน์ส่วนตนมากกว่าประโยชน์ส่วนรวม
 - ง. ผู้ประกอบอาชีพรับจ้างควรมีความสามารถเฉพาะด้าน และมีความรู้ในวิชาชีพอย่างใดอย่างหนึ่ง
8. โอเรียนอยู่ชั้น ป.5 ต้องการหารายได้ จึงไปเล่นดนตรีตอนกลางคืน โอเลือกประกอบอาชีพโดยไม่คำนึงถึงสิ่งใด

ก. ความสุจริต	ข. เวลาทำงาน
ค. ความเสี่ยงในการทำงาน	ง. การยอมรับนับถือ
9. อาชีพที่มีรายได้ขึ้นอยู่กับจำนวนผู้บริโภคคืออาชีพใด

ก. อาชีพค้าขาย	ข. อาชีพรับจ้าง
ค. อาชีพรับราชการ	ง. อาชีพเกษตรกร
10. ก้อยอยากเป็นนักแสดงแทนแต่สุขภาพไม่แข็งแรง ก้อยควรคำนึงถึงสิ่งใดในการเลือกประกอบอาชีพ

ก. รายได้	ข. เวลาทำงาน
ค. การยอมรับนับถือ	ง. ความเสี่ยงในการทำงาน

มฐ. ง 4.1 ป.5/1-2

ได้คะแนน

คะแนนเต็ม

10

เฉลย

1. ก 2. ง 3. ค 4. ง 5. ข 6. ก 7. ค 8. ข 9. ก 10. ง

คำชี้แจง ให้นักเรียนเลือกคำตอบที่ถูกต้องที่สุดเพียงข้อเดียว

1. ข้อใดเป็นประโยชน์ของข้อมูล
 - ก. ช่วยในการตัดสินใจ
 - ข. ช่วยให้เกิดการแข่งขันทางธุรกิจ
 - ค. ช่วยสร้างฐานคะแนนเสียงทางการเมือง
 - ง. ช่วยให้ทราบข้อมูลเชิงลึกของเพื่อนบ้าน
2. ข้อมูลจากแหล่งข้อมูลใดทันสมัยที่สุด
 - ก. กุ้งฟุ้งข่าวจากวิทยุ
 - ข. ยู่ยอ่านหนังสือในห้องสมุด
 - ค. จอยอ่านข่าวจากหนังสือพิมพ์
 - ง. ป่อมหาข้อมูลจากอินเทอร์เน็ต
3. จอยอ่านโฆษณาตลาดราคาสินค้าในหนังสือพิมพ์ แล้วจึงไปซื้อที่ห้างสรรพสินค้า แสดงว่า จอยใช้ประโยชน์สารสนเทศในด้านใด
 - ก. การจัดเก็บข้อมูล
 - ข. การนำข้อมูลไปใช้
 - ค. การวิเคราะห์ข้อมูล
 - ง. การเก็บรวบรวมข้อมูล
4. ถ้าต้องการได้รับข่าวสารจากหนังสือพิมพ์ที่ถูกต้อง ควรปฏิบัติอย่างไร
 - ก. อ่านหลายๆ ฉบับ
 - ข. อ่านฉบับที่ขายดีที่สุด
 - ค. อ่านเรื่องเดิมหลายๆ รอบ
 - ง. อ่านฉบับที่มีเนื้อข่าวมากที่สุด
5. ถ้าต้องการข้อมูลเกี่ยวกับกฎระเบียบ ข้อบังคับ ของทางราชการจะต้องค้นหาข้อมูลจากแหล่งข้อมูลใด

ก. คุณครู	ข. สิ่งพิมพ์
ค. สถานีดับเพลิง	ง. หน่วยงานราชการ
6. ข้อใดเป็นการประมวลผลข้อมูลให้เป็นสารสนเทศ
 - ก. ข้อมูล → สารสนเทศ → ประมวลผล
 - ข. ข้อมูล → ประมวลผล → สารสนเทศ
 - ค. สารสนเทศ → ข้อมูล → ประมวลผล
 - ง. ประมวลผล → ข้อมูล → สารสนเทศ
7. การนำข้อมูลมาทำเป็นสารสนเทศอยู่ในขั้นตอนใด
 - ก. การวิเคราะห์ข้อมูล
 - ข. การตรวจสอบข้อมูล
 - ค. การประมวลผลข้อมูล
 - ง. การเก็บรวบรวมข้อมูล
8. ข้อใดเป็นคุณสมบัติของสารสนเทศที่ดี
 - ก. มีความกำกวม
 - ข. ใช้ภาษาที่ไพเราะ
 - ค. มีความเป็นปัจจุบัน
 - ง. บิดเบือนความจริงที่โหดร้าย
9. แหล่งข้อมูลใดให้ข้อมูลที่เชื่อถือได้
 - ก. ก้อยสำรวจต้นไม้ในโรงเรียน
 - ข. นิดเขียนจดหมายไปหาเพื่อน
 - ค. ปอฟังยายเล่าประวัติของชุมชน
 - ง. แดงเล่าเรื่องที่ได้เที่ยวให้โต้งฟัง
10. เพราะเหตุใด แหล่งข้อมูลปฐมภูมิจึงมีความน่าเชื่อถือ มากกว่าแหล่งข้อมูลทุติยภูมิ
 - ก. เพราะเป็นแหล่งข้อมูลที่มีราคาสูง
 - ข. เพราะเป็นแหล่งข้อมูลจากบุคคลใกล้ชิด
 - ค. เพราะเป็นแหล่งข้อมูลที่ให้ข้อมูลแก่เราโดยตรง
 - ง. เพราะเป็นแหล่งที่มีข้อมูลต่างๆ มากมายรวมอยู่ เป็นระบบ

มฐ. ง 3.1 ป.5/1

ได้คะแนน









คะแนนเต็ม

10

เฉลย

1. ก 2. ง 3. ข 4. ก 5. ง 6. ข 7. ค 8. ค 9. ก 10. ค

คำชี้แจง ให้นักเรียนเลือกคำตอบที่ถูกต้องที่สุดเพียงข้อเดียว

1. แถบสถานะบอกรายละเอียดใด
 - ก. ใช้ในการควบคุมตำแหน่ง
 - ข. ชื่อโปรแกรมที่กำลังใช้อยู่
 - ค. ใช้ขยายหน้าต่างให้เต็มจอ
 - ง. ใช้แสดงสถานะการใช้งานโปรแกรมปัจจุบัน
2. ถ้าต้องการใส่ภาพประกอบในเอกสาร จะต้องคลิกที่คำสั่งใด
 - ก. แก๊ไข
 - ข. แทรก
 - ค. รูปแบบ
 - ง. เครื่องมือ
3. หากนักเรียนต้องการพิมพ์รายงาน ควรเลือกโปรแกรมใด
 - ก. Paint
 - ข. Photoshop
 - ค. Microsoft Word
 - ง. Microsoft Excel
4. ก่อนจะพิมพ์งานควรทำสิ่งใดก่อน
 - ก. กดปุ่ม Enter
 - ข. แทรกรูปภาพ
 - ค. แทรกข้อความ
 - ง. ตั้งค่านำกระดาษ
5. ข้อใดไม่สามารถทำได้ด้วยโปรแกรม Microsoft Word
 - ก. วาดภาพ
 - ข. สร้างตาราง
 - ค. พิมพ์เอกสาร
 - ง. ใส่ภาพประกอบ
6.  เป็นเครื่องมือที่ใช้พิมพ์ตัวอักษรในลักษณะใด
 - ก. แทรกข้อความ
 - ข. เปลี่ยนสีตัวอักษร
 - ค. เพื่อให้ตัวอักษรเป็นตัวบาง
 - ง. เพื่อให้ตัวอักษรเป็นตัวหนา
7. หากต้องการเปลี่ยนภาษาในขณะที่พิมพ์ควรกดที่ปุ่มใด
 - ก.  ข. 
 - ค.  ง. 
8.  ใช้ประโยชน์ในการพิมพ์อย่างไร
 - ก. คลิกเมื่อพิมพ์เอกสารเสร็จแล้ว
 - ข. ไปที่ตัวอักษรตัวแรกของบรรทัด
 - ค. ไปที่ตัวอักษรสุดท้ายของบรรทัด
 - ง. คลิกเมื่อต้องการเริ่มต้นพิมพ์บรรทัดใหม่
9.  ใช้ประโยชน์ในการพิมพ์อย่างไร
 - ก. สร้างเอกสารใหม่
 - ข. พิมพ์เอกสารปัจจุบัน
 - ค. บันทึกเอกสารปัจจุบัน
 - ง. เปิดเอกสารที่มีอยู่แล้ว
10.  ใช้ประโยชน์ในการพิมพ์อย่างไร
 - ก. จัดเรียงข้อความให้อยู่กึ่งกลาง
 - ข. จัดเรียงข้อความให้อยู่ชิดขอบขวา
 - ค. จัดเรียงข้อความให้อยู่ชิดขอบซ้าย
 - ง. จัดเรียงข้อความให้อยู่ชิดขอบซ้ายและขอบขวา

มฐ. ง 3.1 ป.5/2

ได้คะแนน

คะแนนเต็ม

10

เฉลย

1. ง 2. ข 3. ค 4. ง 5. ก 6. ง 7. ง 8. ค 9. ค 10. ข