

คำชี้แจง ให้นักเรียนเลือกคำตอบที่ถูกต้องที่สุดเพียงข้อเดียว

1. ใครจัดเก็บของใช้ได้ถูกต้อง
  - ก. หนึ่งพาดเสื้อไว้ที่เก้าอี้
  - ข. ฝั้นเก็บสมุดไว้ในกระเป๋า
  - ค. วินเก็บลูกบอลไว้ใต้เตียง
  - ง. มินเก็บตุ๊กตาไว้บนโต๊ะเขียนหนังสือ
2. เราควรทำอะไรกับเสื้อที่สวมใส่แล้ว
  - ก. เก็บไว้ใต้เตียง
  - ข. แขนงไว้ในตู้เสื้อผ้า
  - ค. ใส่ลงตะกร้าทิ้งที่เสื้อเปียกเหม็น
  - ง. ฝั้นให้เหม็นแห้ง แล้วใส่ลงในตะกร้าผ้า
3. การเก็บดินสอไว้ในกล่องดินสอมีประโยชน์อย่างไร
  - ก. หยิบใช้ง่าย
  - ข. ไม่ชำรุดง่าย
  - ค. ไม่เสื่อมสภาพเร็ว
  - ง. ไม่โดนเพื่อนขโมย
4. การเก็บสูติบัตรไว้ในสมุดภาพมีผลอย่างไร
  - ก. ยับง่าย
  - ข. เปื้อนฝุ่นง่าย
  - ค. อาจทำให้หายได้
  - ง. ทำให้ผู้อื่นรู้ข้อมูลส่วนตัว
5. เพราะเหตุใด เราจึงควรเก็บเสื้อผ้าที่ซักรีดแล้วให้เป็นระเบียบ
  - ก. เพื่อความสวยงาม
  - ข. เพื่อป้องกันเสื้อผ้ายับ
  - ค. เพื่อป้องกันฝุ่นละออง
  - ง. เพื่อความสะดวกในการหยิบใช้
6. ใครมีคุณธรรมในการทำงาน
  - ก. ฝั้นพับผ้าเสร็จแล้วจึงไปดูโทรทัศน์
  - ข. ชายเล่นฟุตบอลเสร็จแล้วจึงทำการบ้าน
  - ค. ปอนจัดโต๊ะหนังสือแค่ครั้งเดียว แล้วจึงนอนพัก
  - ง. แพนวิ่งเล่นกับเพื่อนก่อน แล้วจึงมาเก็บผ้าที่ตากไว้
7. เอกสารใดเป็นเอกสารประจำตัว
  - ก. สมุด
  - ข. หนังสือ
  - ค. บัตรประจำตัวนักเรียน
  - ง. สมุดรายงานผลการเรียน
8. นักเรียนจะเก็บภาพประวัติส่วนตัวอย่างไร
  - ก. เก็บใส่กระเป๋าสตางค์
  - ข. เก็บไว้ในกระเป๋านักเรียน
  - ค. เก็บไว้บนโต๊ะเขียนหนังสือ
  - ง. วางเรียงกันไว้ที่ชั้น หรือตู้เก็บหนังสือ
9. เพราะเหตุใด นักเรียนจึงต้องจัดกระเป๋านักเรียนทุกวัน
  - ก. เพื่อความเป็นระเบียบ เรียบร้อย
  - ข. เพื่อจะได้ไม่ต้องถือกระเป๋าที่หนักเกินไป
  - ค. เพื่อให้กระเป๋ามีความสวยงาม และคงทน
  - ง. เพื่อจะได้รู้ว่าของสิ่งใดหายไปจากกระเป๋า
10. เป้าหมายของการจัดเก็บของใช้ส่วนตัวคืออะไร
  - ก. เพื่อฝึกให้เป็นนิสัย
  - ข. เพื่อให้เป็นระเบียบ
  - ค. เพื่อยกระดับตัวเอง
  - ง. เพื่อให้มีความสวยงาม

มฐ. ง 1.1 ป.4/1-2

ได้คะแนน	คะแนนเต็ม
	10

เฉลย

1. ข      2. ง      3. ก      4. ค      5. ง      6. ก      7. ค      8. ง      9. ข      10. ข

คำชี้แจง ให้นักเรียนเลือกคำตอบที่ถูกต้องที่สุดเพียงข้อเดียว

1. ใครมีมารยาทในการใช้ห้องน้ำ ห้องส้วม
  - ก. ปลาแซงคิวิเพื่อนเข้าห้องน้ำ
  - ข. น้ำขึ้นไปเหยียบบนโถชักโครก
  - ค. กายทั้งกระดาดชำระลงกับพื้น
  - ง. เอกตชักโครกหลังจากปัสสาวะเสร็จ
2. ข้อใดไม่ควรปฏิบัติขณะรับประทานอาหาร
  - ก. หัวเราะเสียงดัง
  - ข. เคี้ยวอาหารอย่างช้าๆ
  - ค. ปิดปากขณะเคี้ยวอาหาร
  - ง. ไม่พูดขณะมีอาหารอยู่ในปาก
3. ขณะที่ตำอ่านหนังสือเตรียมสอบอยู่ แม่ถือของกลับมาจากตลาด ตำควรปฏิบัติอย่างไร
  - ก. นั่งอ่านหนังสือโดยไม่สนใจ
  - ข. เรียกให้คนอื่นมาช่วยแม่ถือของ
  - ค. เข้าไปช่วยถือของ แล้วนำไปเก็บ
  - ง. กล่าวทักทาย แล้วอ่านหนังสือต่อ
4. การรับประทานอาหารแบบนั่งโต๊ะ ใครควรนั่งเก้าอี้ตัวในสุด
  - ก. แม่
  - ข. พ่อ
  - ค. ผู้มาทีหลัง
  - ง. ผู้ที่มาก่อน
5. ใครปฏิบัติตนได้ถูกต้อง
  - ก. อ้อมตักอาหารคำใหญ่
  - ข. เอ็นเคี้ยวอาหารเสียงดัง
  - ค. อ้อมล้างมือก่อนรับประทานอาหาร
  - ง. อยู่ใช้ช้อนกลางตักอาหารเข้าปาก
6. เราควรทำอะไร เมื่อผู้ใหญ่กำลังนั่งคุยกัน
  - ก. นั่งฟังผู้ใหญ่คุยกัน
  - ข. นั่งคุยกับผู้ใหญ่ด้วย
  - ค. นั่งเล่นอยู่ข้างๆ ที่ผู้ใหญ่คุยกัน
  - ง. เดินเสียงออกมาจากบริเวณนั้น
7. เราควรพูดทักทายพ่อที่กลับมาจากทำงานอย่างไร
  - ก. ว่าไง งานหนักไหมคะ
  - ข. สวัสดีค่ะ เหนื่อยไหมคะ
  - ค. เป็นไงบ้าง เหนื่อยไหมพ่อ
  - ง. วันนี้งานหนักไหม หิวข้าวหรือเปล่า
8. นักเรียนสามารถทำความเคารพพ่อแม่ได้โดยวิธีการใด
  - ก. การไหว้
  - ข. การกราบ
  - ค. การจับมือ
  - ง. การหอมแก้ม
9. ใครมีมารยาทในการใช้ห้องเรียน
  - ก. อ้อมทิ้งขยะบนพื้นห้องเรียน
  - ข. ไอ้ไข่เก้าอี้ โต๊ะเรียนอย่างทะนุถนอม
  - ค. อ้อมส่งเสียงดังรบกวนเพื่อนในเวลาเรียน
  - ง. อ้อมเขียนชื่อบนโต๊ะเพื่อเป็นการจองที่นั่ง
10. ถ้านักเรียนไม่เก็บของเล่นแล้วถูกตำหนิ นักเรียนจะทำอย่างไร
  - ก. รับฟังอย่างนิ่งเฉย
  - ข. เดินเสียงไปอย่างเงียบๆ
  - ค. กล่าวคำขอโทษอย่างสุภาพ
  - ง. กล่าวคำขอโทษ และเก็บของเล่นให้เรียบร้อย

มฐ. ง 1.1 ป.4/3

ได้คะแนน	คะแนนเต็ม
	10

เฉลย

1. ง 2. ก 3. ค 4. ง 5. ค 6. ง 7. ข 8. ก 9. ข 10. ง

คำชี้แจง ให้นักเรียนเลือกคำตอบที่ถูกต้องที่สุดเพียงข้อเดียว

1. เครื่องมือเกษตรตามภาพใช้ทำอะไร  

  - ก. ขุดดิน
  - ข. ย่อยดิน
  - ค. พรวนดิน
  - ง. ย้ายต้นกล้า
2. นักเรียนจะใช้เครื่องมือเกษตรใดรดน้ำต้นไม้ที่มีขนาดเล็ก  


  - ก. 
  - ข. 
  - ค. 
  - ง. 
3. เครื่องมือเกษตรใดใช้กับงานดิน  
  - ก. จอบถาก
  - ข. มีดตายหญ้า
  - ค. กรรไกรตัดกิ่ง
  - ง. กรรไกรตัดหญ้า
4. ใครใช้เครื่องมือเกษตรได้ถูกต้อง เหมาะสม  
  - ก. ปอแก้วใช้สายยางรดน้ำต้นไม้ขนาดเล็ก
  - ข. โบฝ้ายนำเครื่องมือเกษตรที่ชำรุดมาใช้งาน
  - ค. ไยใหม่ใช้ส้อมพรวนพรวนดินรอบๆ โคนต้นพืช
  - ง. สายป่านนำกรรไกรตัดหญ้ามารดน้ำเล่นหยอกล้อกับเพื่อน
5. ในการใช้เครื่องมือเกษตร นักเรียนจะต้องคำนึงถึงเรื่องใด เป็นสำคัญ  
  - ก. ราคาของเครื่องมือเกษตร
  - ข. ความปลอดภัยในการทำงาน
  - ค. ความทนทานของเครื่องมือเกษตร
  - ง. อายุการใช้งานของเครื่องมือเกษตร
6. นักเรียนมีวิธีดูแลรักษาเครื่องมือเกษตรที่เป็นโลหะอย่างไร  
  - ก. เช็ดทำความสะอาด
  - ข. ล้างน้ำ แล้วเช็ดให้แห้ง
  - ค. เช็ดทำความสะอาด แล้วทาน้ำมัน
  - ง. ล้างด้วยผงซักฟอก แล้วเช็ดให้แห้ง
7. นักเรียนจะได้อย่างไร ถ้าด้ามจอบหลวม  
  - ก. ใช้เชือกผูกมัดให้แน่น
  - ข. นำตะปูมาตอกยึดให้แน่น
  - ค. ใช้กาวร้อนหยอดระหว่างด้ามจอบ
  - ง. นำไม้รูปลิ้นมาเสียบตรงรูระหว่างด้ามจอบกับหูจอบ
8. นักเรียนควรทำอะไร ถ้าพบเครื่องมือเกษตรชำรุด  
  - ก. นำไปทิ้ง
  - ข. ซ่อมแซม
  - ค. หาซื้อใหม่
  - ง. เอาไปเก็บรวบรวมไว้ในห้องเก็บเครื่องมือ
9. นักเรียนควรเก็บเครื่องมือเกษตรที่มีคมอย่างไร  
  - ก. แขนงไว้ในที่สูง
  - ข. เก็บไว้ใต้ตู้ เตียง
  - ค. หันด้านคมเข้าด้านใน
  - ง. หากกระดาษพัน แล้ววางกองรวมไว้กับเครื่องมืออื่น
10. การทำบัญชีเครื่องมือเกษตรมีประโยชน์อย่างไร  
  - ก. เพื่อจะได้รู้ราคาเครื่องมือเกษตร
  - ข. ช่วยป้องกันเครื่องมือเกษตรสูญหาย
  - ค. เพื่อจะได้รู้ว่าเครื่องมือเกษตรอะไรบ้าง
  - ง. เพื่อจะได้รู้ระยะเวลาที่ซื้อเครื่องมือเกษตรมา

มฐ. ง 1.1 ป.4/1-2

ได้คะแนน	คะแนนเต็ม
	10

เฉลย

1. ง    2. ข    3. ก    4. ค    5. ข    6. ค    7. ง    8. ข    9. ค    10. ข

คำชี้แจง ให้นักเรียนเลือกคำตอบที่ถูกต้องที่สุดเพียงข้อเดียว

1. ประโยชน์ที่สำคัญที่สุดของไม้ดอกไม้ประดับคืออะไร
  - ก. ให้โชคลาภ
  - ข. เป็นอาหาร
  - ค. เพื่อจำหน่าย
  - ง. ประดับตกแต่ง
2. การรดน้ำต้นกล้าไม่ควรทำเวลาใด เพราะเหตุใด
  - ก. เช้า เพราะต้นกล้าได้รับน้ำจากน้ำค้างแล้ว
  - ข. สาย เพราะต้นกล้ากำลังสังเคราะห์ด้วยแสง
  - ค. เย็น เพราะอากาศมีอุณหภูมิสูง น้ำจึงร้อน อาจทำให้ต้นกล้าตายได้
  - ง. เย็น เพราะต้นกล้าคายก๊าซคาร์บอนไดออกไซด์ จึงไม่ควรอยู่ใกล้ต้นกล้า
3. การขยายพันธุ์ไม้ดอกไม้ประดับ โดยการแยกหัวหรือหน่อ มีผลดีอย่างไร
  - ก. ขายได้ราคาดี
  - ข. ขยายพันธุ์ได้ง่าย
  - ค. ได้พันธุ์ที่ดีกว่าเดิม
  - ง. ขยายพันธุ์ได้รวดเร็ว
4. ผลเสียของการขยายพันธุ์ไม้ดอกไม้ประดับด้วยเมล็ดคืออะไร
  - ก. ดูแลยาก
  - ข. เก็บเมล็ดได้น้อย
  - ค. ปลายพันธุ์ได้ง่าย
  - ง. สิ้นเปลืองค่าใช้จ่าย
5. เราสังเกตได้อย่างไรว่ากิ่งตอนที่เราขยายพันธุ์ไว้สามารถนำไปปลูกได้แล้ว
  - ก. มีใบหลายใบ
  - ข. มีตาหลายตา
  - ค. มีรากงอกออกมา
  - ง. กิ่งโค้งงอสวยงาม
6. การดูแล บำรุงรักษาไม้ดอกไม้ประดับใดที่ควรทำทุกวัน
  - ก. รดน้ำ
  - ข. พรวนดิน
  - ค. ใส่ปุ๋ย
  - ง. กำจัดวัชพืช
7. แม่บอกให้บุตรรดน้ำต้นไม้ แต่บุตรไม่ได้ทำ นุชขาดคุณธรรมใด
  - ก. ความขยัน
  - ข. ความตั้งใจ
  - ค. ความซื่อสัตย์
  - ง. ความรับผิดชอบ
8. ผู้หยุดดินพร้อมกับเล่นกับเพื่อนไปด้วย ผู้ขาดคุณธรรมใด
  - ก. ความขยัน
  - ข. ความตั้งใจ
  - ค. ความซื่อสัตย์
  - ง. ความรับผิดชอบ
9. ใครปฏิบัติตนไม่เหมาะสม
  - ก. บุ่มปลูกต้นไม้ตามที่ครูสั่งจนเสร็จ
  - ข. ย้ายใส่ปุ๋ยให้ต้นไม้ตามกำหนดเวลา
  - ค. อุ้มเล่นกับเพื่อนขณะเก็บดอกลำดวน
  - ง. รุ่งรดน้ำต้นไม้ทุกเช้า-เย็นเป็นประจำ
10. ก้อยเตรียมดินและชุดหลุมเสร็จแล้ว ขั้นตอนต่อไป ก้อยควรทำสิ่งใด
  - ก. กำจัดวัชพืช
  - ข. ปลูกต้นกล้า
  - ค. ทำเพิงบังแดด
  - ง. เก็บเกี่ยวผลผลิต

มฐ. ง 1.1 ป.4/1-2

ได้คะแนน

คะแนนเต็ม

10

เฉลย

1. ง    2. ค    3. ง    4. ค    5. ค    6. ก    7. ง    8. ข    9. ค    10. ข

คำชี้แจง ให้นักเรียนเลือกคำตอบที่ถูกต้องที่สุดเพียงข้อเดียว

1. งานช่างหมายถึงงานในข้อใด
  - ก. งานเก็บเกี่ยวผลผลิต
  - ข. งานปลูกพืชผักสวนครัว
  - ค. งานประดิษฐ์ที่คั่นหนังสือ
  - ง. งานดัดแปลงวัสดุหรือเศษวัสดุให้เป็นสิ่งของเครื่องใช้
2. งานช่างประเภทใดที่เกี่ยวกับการซ่อมแซมตู้เย็น
  - ก. ช่างไม้
  - ข. ช่างไฟฟ้า
  - ค. ช่างประปา
  - ง. ช่างประติมากรรม
3. เครื่องมือช่างประเภทใดควรเก็บไว้ด้วยกัน
  - ก. ตะปู ขวาน
  - ข. มีด ตลับเมตร
  - ค. กรรไกร คัตเตอร์
  - ง. สายวัด คีมตัดลวด
4. ใครใช้เครื่องมือช่างได้ถูกต้อง
  - ก. สินธุศึกษาวิธีการใช้ก่อนใช้งาน
  - ข. อาไปใช้เครื่องมือทำงานอย่างใจลอย
  - ค. ช่างไม่พูดคุยกับใครขณะใช้เครื่องมือ
  - ง. ชลล้างทำความสะอาดก่อนใช้ทุกครั้ง
5. ของใช้ใดที่นักเรียนสามารถซ่อมแซมได้ด้วยตนเอง
  - ก. วิทยุเสีย
  - ข. โคมไฟแตก
  - ค. ไม้พืดพืดลมหัก
  - ง. ตั๊กมึไม้กวาดหัก
6. หลังจากใช้เครื่องมือที่เป็นโลหะเสร็จแล้วควรทำอะไร
  - ก. จัดเก็บใส่กล่อง
  - ข. ล้างทำความสะอาด
  - ค. ทาน้ำมันป้องกันสนิม
  - ง. เช็ดน้ำมันป้องกันสนิม
7. การดูแลบำรุงรักษา และซ่อมแซมเครื่องมือช่าง มีประโยชน์อย่างไร
  - ก. ช่วยให้ใช้เวลาว่างให้เป็นประโยชน์
  - ข. ช่วยให้เกิดความเป็นระเบียบเรียบร้อย
  - ค. ช่วยให้เครื่องมือช่างที่มีราคาแพงไว้ใช้
  - ง. ช่วยให้เครื่องมือมีอายุการใช้งานยาวนานขึ้น
8. นักเรียนจะซ่อมแซมสายวัดที่ขาดได้อย่างไร
  - ก. ใช้เทปใสพันรอบสายวัด
  - ข. ใช้อิพ็อกซีหยอดตรงรอยขาด
  - ค. ใช้กาวร้อนหยอดตรงรอยขาด
  - ง. ใช้กระดาษกาวพันรอบสายวัด
9. ใครปฏิบัติตนได้ไม่เหมาะสม
  - ก. มีนาเย็บตุ๊กตาผ้าที่ขาด
  - ข. มีนึ่งจอบที่ด้ามหลุดทันที
  - ค. ปลาใช้เทปใสติดสายวัดที่ขาด
  - ง. มัสยาใช้แผ่นตะกั่วปะรอยรั่วที่กันหม้อ
10. เครื่องมือใดใช้สำหรับขัดผิววัสดุให้เรียบ
  - ก. ลีว
  - ข. แปรงทาสี
  - ค. กระดาษกาว
  - ง. กระดาษทราย

มฐ. ง 1.1 ป.4/1-2,4

ได้คะแนน	คะแนนเต็ม
	10

เฉลย

1. ง 2. ข 3. ค 4. ก 5. ง 6. ค 7. ง 8. ก 9. ข 10. ง

คำชี้แจง ให้นักเรียนเลือกคำตอบที่ถูกต้องที่สุดเพียงข้อเดียว

1. การออกแบบงานประดิษฐ์ก่อนลงมือทำมีประโยชน์อย่างไร
  - ก. ช่วยให้ประดิษฐ์ได้ง่ายขึ้น
  - ข. ช่วยให้มีความหลากหลายแบบ
  - ค. ช่วยให้เลือกวัสดุที่จะใช้ได้ง่าย
  - ง. ช่วยให้สิ่งประดิษฐ์มีความคงทน
2. ข้อใดไม่ต้องคำนึงถึงในการออกแบบสิ่งประดิษฐ์ต่างๆ
  - ก. รูปทรงของชิ้นงาน
  - ข. ประโยชน์ของการใช้งาน
  - ค. ความสวยงามของชิ้นงาน
  - ง. ราคาของวัสดุที่นำมาประดิษฐ์
3. หลังจากทำงานประดิษฐ์เสร็จแล้วควรทำสิ่งใดเป็นอันดับแรก
  - ก. คิดงานชิ้นต่อไป
  - ข. เก็บอุปกรณ์ต่างๆ
  - ค. ตรวจสอบคุณภาพ
  - ง. นำผลงานออกแสดง
4. งานประดิษฐ์ใดควรใช้ใบทอง
  - ก. บายศรี
  - ข. กระเป๋าใส่เงิน
  - ค. หมวกปีกกว้าง
  - ง. ดอกไม้ประดิษฐ์
5. เครื่องมือใดใช้ยึดผ้าสองผืนให้ติดกัน
  - ก. กาว
  - ข. เข็มและด้าย
  - ค. กระดาษกาว
  - ง. ที่เย็บกระดาษ
6. ถ้าต้องการงานประดิษฐ์ที่ใช้สำหรับตกแต่งฝาผนัง ควรเลือกงานประดิษฐ์ใด
  - ก. กรอบรูป
  - ข. หมอนอิง
  - ค. กล่องรับจดหมาย
  - ง. โคมไฟเปลือย
7. ใครปฏิบัติตนไม่ถูกต้อง
  - ก. นุ่นใช้กาวติดกระดาษ
  - ข. น้อยเก็บเครื่องมือเมื่อใช้เสร็จแล้ว
  - ค. โทนี่เก็บกรรไกรในกระเป๋ากางเกง
  - ง. นิตตามคุณครูเรื่องวิธีการใช้กบไสไม้
8. การเลือกใช้วัสดุมาทำงานประดิษฐ์วิธีใดถูกต้อง
  - ก. เลือกวัสดุที่ซื้อใหม่
  - ข. เลือกวัสดุที่มีราคาแพง
  - ค. เลือกวัสดุที่มีสีสวย
  - ง. เลือกวัสดุที่หาง่ายในท้องถิ่น
9. การประดิษฐ์สิ่งของจากเศษวัสดุไว้ใช้เองมีประโยชน์อย่างไร
  - ก. ฝึกการทำงาน
  - ข. ทำให้มีความอดทน
  - ค. ทำให้มีความสามัคคี
  - ง. ช่วยประหยัดค่าใช้จ่าย
10. ใครใช้วัสดุในการทำงานประดิษฐ์ได้ถูกต้อง
  - ก. ปุ่มชื้อวัสดุแพงๆ มาทำงานประดิษฐ์
  - ข. นำชื้อวัสดุใหม่ทุกครั้งทำงานประดิษฐ์
  - ค. จัดใช้เมล็ดพันธุ์พืชมาทำเป็นตาติดที่ตุ๊กตา
  - ง. โยชื้อกระดาษห่อของขวัญมาตกแต่งกรอบรูป

มฐ. ง 1.1 ป.4/1-2,4

ได้คะแนน คะแนนเต็ม

10

เฉลย

1. ก    2. ง    3. ค    4. ก    5. ข    6. ก    7. ค    8. ง    9. ง    10. ค

คำชี้แจง ให้นักเรียนเลือกคำตอบที่ถูกต้องที่สุดเพียงข้อเดียว

1. การประกอบอาชีพมีประโยชน์อย่างไร
  - ก. ลดรายจ่ายในครอบครัว
  - ข. มีรายได้มาเลี้ยงดูตนเอง
  - ค. ใช้เวลาว่างให้เป็นประโยชน์
  - ง. ใช้ความรู้ที่เรียนมาให้เกิดประโยชน์
2. ประเทศชาติได้ประโยชน์จากการประกอบอาชีพสุจริตของประชาชนในรูปแบบใด
  - ก. ภาษี
  - ข. เงินกู้
  - ค. เงินฝาก
  - ง. งบประมาณ
3. เกษตรกรจัดเป็นอาชีพประเภทใด
  - ก. อาชีพอิสระ
  - ข. อาชีพบริการ
  - ค. อาชีพรับจ้าง
  - ง. อาชีพรับราชการ
4. อาชีพรับจ้างมีข้อดีอย่างไร
  - ก. ทำงานในแบบที่พึงพอใจ
  - ข. มีเงินเดือนแน่นอนทุกเดือน
  - ค. มีรายได้เพิ่มขึ้นอย่างต่อเนื่อง
  - ง. มีอิสระทางความคิดในการประกอบอาชีพ
5. อาชีพใดจัดเป็นอาชีพประเภทเดียวกับช่างเย็บผ้า
  - ก. หมอ
  - ข. นักบิน
  - ค. เกษตรกร
  - ง. นักการบัญชี
6. อาชีพใดมีรายได้แน่นอนทุกเดือน
  - ก. จิตรกร
  - ข. ชาวนา
  - ค. ชาวประมง
  - ง. ครู/อาจารย์
7. อาชีพใดต้องทำงานภายใต้การบังคับบัญชาของผู้บังคับบัญชา
  - ก. ทหาร
  - ข. แม่ค้า
  - ค. เกษตรกร
  - ง. นักประพันธ์
8. อาชีพใดต้องค้นคว้าหาความรู้ใหม่ๆ อยู่เสมอ
  - ก. ทนาย
  - ข. ตำรวจ
  - ค. ชาวนา
  - ง. ครู/อาจารย์
9. ใครมีคุณธรรมในการประกอบอาชีพ
  - ก. ปีนมูกแอบหลับระหว่างทำงาน
  - ข. ไบปอทำงานด้วยความขยัน อดทน
  - ค. ทอผ้าหนีบกระดาษของบริษัทมาใช้ที่บ้าน
  - ง. ดันข้าวรับประทานอาหารก่อนเวลาพัก 10 นาที
10. อาชีพใดมีความสำคัญที่สุด เพราะเหตุใด
  - ก. หมอ เพราะช่วยรักษาชีวิตของคนไข้
  - ข. ครู/อาจารย์ เพราะให้ความรู้แก่นักเรียน
  - ค. ทุกอาชีพที่สุจริต เพราะช่วยพัฒนาประเทศชาติให้เจริญก้าวหน้า
  - ง. ทหาร เพราะช่วยปกป้อง รักษาเอกราชของประเทศไทย

มฐ. ง 4.1 ป.4/1

ได้คะแนน


คะแนนเต็ม

10

เฉลย

1. ข 2. ก 3. ก 4. ข 5. ค 6. ง 7. ก 8. ง 9. ข 10. ค

คำชี้แจง ให้นักเรียนเลือกคำตอบที่ถูกต้องที่สุดเพียงข้อเดียว

1. สิ่งใดเป็นเทคโนโลยีสารสนเทศ
  - ก. ปากกา
  - ข. หนังสือ
  - ค. ห้องสมุด
  - ง. คอมพิวเตอร์
2. ข้อมูลที่ผ่านขั้นตอนการประมวลผลแล้วสามารถนำไปใช้อ้างอิงได้เรียกว่าอะไร
  - ก. สถิติ
  - ข. เทคโนโลยี
  - ค. สารสนเทศ
  - ง. เทคโนโลยีสารสนเทศ
3. เทคโนโลยีสารสนเทศมีความสำคัญต่อการศึกษายังไร
  - ก. ใช้เล่นเกม
  - ข. ใช้ค้นคว้าหาข้อมูล
  - ค. ใช้ฟังเพลงออนไลน์
  - ง. ใช้ดูรายการโทรทัศน์ย้อนหลัง
4. รถไฟฟ้าเป็นความสำคัญของเทคโนโลยีสารสนเทศ ในด้านใด
  - ก. ด้านการศึกษา
  - ข. ด้านการสื่อสาร
  - ค. ด้านการคมนาคม
  - ง. ด้านธุรกิจพาณิชย์
5. เทคโนโลยีสารสนเทศถูกใช้ประโยชน์ในด้านธุรกิจพาณิชย์อย่างไร
  - ก. การชำระค่าบริการผ่านบัตรเครดิต
  - ข. การส่งจองตั๋วเครื่องบินทางโทรศัพท์
  - ค. การติดต่อสื่อสารทางธุรกิจโดยใช้โทรศัพท์
  - ง. การกระจายข้อมูลข่าวสารต่างๆ ทางอินเทอร์เน็ต
6. เทคโนโลยีสารสนเทศใดช่วยให้เกิดความเท่าเทียมกัน ในสังคม
  - ก. รถไฟฟ้า
  - ข. บัตรเครดิต
  - ค. เครื่องฝาก-ถอนเงินอัตโนมัติ (ATM)
  - ง. ระบบการเรียนการสอนทางไกลผ่านดาวเทียม
7. การเก็บข้อมูลในอุปกรณ์เทคโนโลยีสารสนเทศชนิดใด ที่สะดวกในการพกพา
  - ก. แผ่นซีดี
  - ข. แผ่นดีวีดี
  - ค. แฟลชไดรฟ์
  - ง. คอมพิวเตอร์
8. อุปกรณ์เทคโนโลยีสารสนเทศใดมีหน้าที่เหมือนกัน
  - ก. แฟลชไดรฟ์-แผ่นซีดี
  - ข. แฟลชไดรฟ์-สแกนเนอร์
  - ค. คอมพิวเตอร์-กล้องดิจิทัล
  - ง. คอมพิวเตอร์-แฟลชไดรฟ์
9.  อุปกรณ์เทคโนโลยีสารสนเทศในภาพ มีหน้าที่อย่างไร
  - ก. รับข้อมูล      ข. เก็บข้อมูล
  - ค. บันทึกภาพ      ง. สแกนภาพ
10. นักเรียนได้รับประโยชน์จากเทคโนโลยีสารสนเทศด้านใดมากที่สุด
  - ก. ทำให้เรียนหนังสือได้ง่ายขึ้น
  - ข. แก้ไขปัญหาต่างๆ ได้ง่ายขึ้น
  - ค. ได้รับความสนุกจากการเล่นเกม
  - ง. ค้นคว้าหาความรู้ได้สะดวกยิ่งขึ้น

มฐ. ง 3.1 ป.4/1

ได้คะแนน	คะแนนเต็ม
	10




เฉลย

1. ง      2. ค      3. ข      4. ค      5. ก      6. ง      7. ค      8. ก      9. ข      10. ง



คำชี้แจง ให้นักเรียนเลือกคำตอบที่ถูกต้องที่สุดเพียงข้อเดียว

1. คอมพิวเตอร์รับข้อมูลโดยผ่านสิ่งใด
  - ก. เม้าส์
  - ข. ซีพียู
  - ค. ซีดีรอม
  - ง. โปรแกรม
2. เครื่องพิมพ์มีหน้าที่อะไร
  - ก. นำข้อมูลเข้าสู่คอมพิวเตอร์
  - ข. เชื่อมต่ออุปกรณ์คอมพิวเตอร์
  - ค. วิเคราะห์และประมวลผลข้อมูล
  - ง. แสดงผลข้อมูลภาพและตัวอักษร
3. หน่วยความจำแรม (RAM) และรอม (ROM) จะอยู่ใน ส่วนใดของคอมพิวเตอร์
  - ก. จอภาพ
  - ข. แป้นพิมพ์
  - ค. หน่วยประมวลผล
  - ง. เครื่องกราดตรวจหรือสแกนเนอร์
4. ถ้าต้องการเปลี่ยนตัวอักษรจากภาษาไทยเป็นภาษาอังกฤษ ต้องกดปุ่มใด
 

ก. 	ข. 
ค. 	ง. 
5. ประโยชน์ของการใช้งานคอมพิวเตอร์คืออะไร
  - ก. ฟังเพลง
  - ข. เล่นเกมต่อสู้
  - ค. ดูหนังออนไลน์
  - ง. ค้นหาข้อมูลทางอินเทอร์เน็ต
6. การใช้งานคอมพิวเตอร์ติดต่อกันเป็นเวลานานๆ ทำให้เกิดผลอย่างไร
  - ก. ทำให้เสียสุขภาพ
  - ข. ทำให้สะดวกในการทำงาน
  - ค. ทำให้งานที่ทำเป็นระเบียบ
  - ง. ทำให้ชำนาญในการใช้งานคอมพิวเตอร์
7. ใครใช้ประโยชน์ของคอมพิวเตอร์ไม่เหมาะสม
  - ก. กดตกแต่งภาพจากโปรแกรม Paint
  - ข. หมึ่งดูหนังจากโปรแกรม Power DVD
  - ค. ทินเปิดเพลงจากโปรแกรม Winamp เสียงดัง
  - ง. ดวงพิมพ์รายงานด้วยโปรแกรม Microsoft Word
8. ข้อใดไม่ใช่ส่วนประกอบของฮาร์ดแวร์
  - ก. จอภาพ
  - ข. โปรแกรมเพนต์
  - ค. แผงแป้นอักขระ
  - ง. หน่วยประมวลผล
9. ซอฟต์แวร์คืออะไร
  - ก. โปรแกรมคอมพิวเตอร์
  - ข. ผู้ที่ใช้งานคอมพิวเตอร์
  - ค. หน่วยประมวลผลคอมพิวเตอร์
  - ง. อุปกรณ์ต่างๆ ของคอมพิวเตอร์
10. ถ้าต้องใช้คอมพิวเตอร์ในการนำเสนอข้อมูลควรใช้ โปรแกรมใด
  - ก. ไมโครซอฟต์เวิร์ด
  - ข. ไมโครซอฟต์เอ็กเซล
  - ค. ไมโครซอฟต์เอกเซล
  - ง. ไมโครซอฟต์เพาเวอร์พอยต์

มฐ. ง 3.1 ป.4/2-4

ได้คะแนน






คะแนนเต็ม

10

เฉลย

1. ก    2. ง    3. ค    4. ข    5. ง    6. ก    7. ค    8. ข    9. ก    10. ง

คำชี้แจง ให้นักเรียนเลือกคำตอบที่ถูกต้องที่สุดเพียงข้อเดียว

1. โฟลเดอร์ (Folder) เปรียบเสมือนสิ่งใด
  - ก. แฟ้ม
  - ข. ถังขยะ
  - ค. เอกสาร
  - ง. โปรแกรม
2. นักเรียนควรจัดไฟล์ในคอมพิวเตอร์อย่างไร
  - ก. จัดไฟล์ไว้ในไดรฟ์ต่างๆ
  - ข. จัดไฟล์ไว้ในโฟลเดอร์ให้เป็นหมวดหมู่
  - ค. จัดไฟล์ไว้ในโฟลเดอร์เดียวกันทั้งหมด
  - ง. จัดไฟล์ไว้ในโฟลเดอร์ต่างๆ มากกว่า 1 โฟลเดอร์
3. คำสั่งใดใช้เปลี่ยนชื่อไฟล์หรือโฟลเดอร์
  - ก. Cut
  - ข. Paste
  - ค. Delete
  - ง. Rename
4. ถ้าต้องการลบไฟล์แบบถาวรควรปฏิบัติอย่างไร
  - ก. กด Ctrl ค้างไว้ แล้วเลือก File
  - ข. กด Shift ค้างไว้ แล้วเลือก File
  - ค. กด Shift ค้างไว้ แล้วเลือก Delete
  - ง. กด Caps Lock ค้างไว้ แล้วเลือก Delete
5. ถ้าไฟล์ที่ย้ายไปมีชื่อซ้ำกับไฟล์ในโฟลเดอร์ปลายทางจะเป็นอย่างไร
  - ก. Windows จะแสดงข้อความ เพื่อเตือนให้ทราบ
  - ข. Windows จะไม่ย้ายไฟล์ต้นทางไปที่ไฟล์ปลายทาง
  - ค. Windows จะย้ายไฟล์ต้นทางไปที่ไฟล์ปลายทางทันที
  - ง. Windows จะบันทึกไฟล์นั้นทับไฟล์ในโฟลเดอร์ปลายทางทันที
6. คำสั่งใดเกี่ยวข้องกับการย้ายไฟล์หรือโฟลเดอร์ด้วยคำสั่ง
  - ก. New, Cut      ข. Cut, Paste
  - ค. Move, Copy      ง. Copy, Paste
7. โปรแกรมเพนที่ใช้ทำอะไร
  - ก. คำนวณตัวเลข
  - ข. พิมพ์งานเอกสาร
  - ค. วาดภาพหรือตกแต่งภาพ
  - ง. ทำรายงานนำเสนอผลงาน
8.  เครื่องมือในภาพใช้ทำอะไร
  - ก. พ่นสีเป็นละออง
  - ข. เทสีในพื้นที่ที่เป็นพื้นที่ปิด
  - ค. เลือกสีพริ้วกราวด์จากจุดในภาพ
  - ง. ระบายสีเป็นทางตามแนวการลากแปรง
9. นักเรียนจะใช้เครื่องมือใดในการลากเส้นหรือวาดจุดในภาพ
  - ก.       ข. 
  - ค.       ง. 
10. ขั้นตอนการเก็บข้อมูลไว้ในคอมพิวเตอร์ ควรปฏิบัติอย่างไร
  - ก. คลิก File > Save แล้วเลือก Drive [G:] พิมพ์ชื่อ กด Save
  - ข. คลิก File > Save แล้วเลือก CD Drive [E:] พิมพ์ชื่อ กด Save
  - ค. คลิก File > Save As แล้วเลือก My Documents พิมพ์ชื่อ กด Save
  - ง. คลิก Folder > Save As พิมพ์ชื่อ แล้วเลือก My Documents กด Save

มฐ. ง 3.1 ป.4/4-5

ได้คะแนน

คะแนนเต็ม

10

เฉลย

1. ก      2. ข      3. ง      4. ค      5. ก      6. ข      7. ค      8. ง      9. ก      10. ค