

คำชี้แจง ให้นักเรียนเลือกคำตอบที่ถูกต้องที่สุดเพียงข้อเดียว

1. ใครมีหน้าที่ทำอาหารในบ้าน
 - ก. พ่อ
 - ข. แม่
 - ค. ลูก
2. วัยของนักเรียนสามารถทำงานบ้านได้ได้ด้วยตนเอง
 - ก. กวาดพื้น
 - ข. ล้างตู้เย็น
 - ค. เปลี่ยนหลอดไฟ
3. ประโยชน์ของการทำงานบ้านคือข้อใด
 - ก. ทำให้ผู้อื่นชื่นชม
 - ข. ทำให้ผู้อยู่อาศัยรำรวย
 - ค. ทำให้บ้านสะอาดน่าอยู่
4. เมื่อใช้ไม้กวาดดอกหญ้าเสร็จแล้วควรทำอะไร
 - ก. ผึ่งแดดให้แห้ง
 - ข. เคาะฝุ่นละออง
 - ค. ล้างด้วยน้ำสะอาด
5. นักเรียนจะใช้เครื่องมือชนิดใดกวาดพื้นดิน
 - ก. ไม้กวาดดอกหญ้า
 - ข. ไม้กวาดทางมะพร้าว
 - ค. ไม้กวาดทางมะพร้าวมีด้าม
6. เพราะเหตุใดจึงไม่ควรสะบัดปลายไม้กวาดทางมะพร้าวขณะกวาดน้ำที่พื้น
 - ก. เพราะน้ำจะกระเด็นใส่ตัว
 - ข. เพราะไม้กวาดจะเสียหาย
 - ค. เพราะจะกวาดน้ำไม่สะอาด
7. เพราะเหตุใดจึงไม่ควรล้างแก้วน้ำพร้อมกับล้างจานชาม
 - ก. เพราะแก้วน้ำจะมีรอยร้าว
 - ข. เพราะแก้วน้ำจะมีกลิ่นเหม็นคาว
 - ค. เพราะจานชามจะมีกลิ่นเหม็นคาว
8. นักเรียนจะเลือกล้างสิ่งของในข้อใดเป็นอันดับแรก
 - ก. แก้วน้ำ
 - ข. จานชาม
 - ค. ช้อนส้อม
9. เพราะเหตุใดจึงต้องกวาดเศษอาหารทิ้งก่อนล้างจานชาม
 - ก. เพื่อให้ไม่ให้สกปรกมาก
 - ข. เพื่อให้ไม่ให้เปื้อนน้ำยาล้างจาน
 - ค. เพื่อให้เศษอาหารไปอุดตันท่อระบายน้ำ
10. เมื่อรับประทานอาหารเสร็จแล้วควรปฏิบัติอย่างไร
 - ก. นำจานชามไปให้คุณแม่ล้าง
 - ข. ล้างจานชามด้วยตนเองทันที
 - ค. เก็บจานชามไว้หลาย ๆ วัน แล้วจึงล้างพร้อมกันทีเดียว

มฐ. ง 1.1 ป.2/1, 3

ได้คะแนน

คะแนนเต็ม

10

เฉลย

1. ข 2. ก 3. ค 4. ข 5. ค 6. ก 7. ข 8. ก 9. ค 10. ข

คำชี้แจง ให้นักเรียนเลือกคำตอบที่ถูกต้องที่สุดเพียงข้อเดียว

1. นักเรียนจะเลือกแต่งตัวไปวัดกับคุณยายอย่างไร
 - ก. เสื้อผ้าที่เรียบร้อย
 - ข. เสื้อผ้าที่สวมใส่สบาย
 - ค. เสื้อผ้าที่ทะมัดทะแมง
2. การซักเสื้อผ้าให้สะอาดมีผลดีอย่างไร
 - ก. ทำให้ผู้ใส่ดูมีฐานะ
 - ข. ทำให้ผู้ใส่ดูทันสมัย
 - ค. ทำให้ผู้ใส่ไม่เกิดโรคภัย
3. เพราะเหตุใดเสื้อผ้าที่สวมใส่แล้วจึงควรใส่ตะกร้าไว้
 - ก. เพื่อไม่ให้สกปรก
 - ข. เก็บซักได้สะดวก
 - ค. ทำให้หมดกลิ่นเหม็น
4. การจัดเก็บเสื้อผ้าและเครื่องแต่งกายแยกตามประเภท มีประโยชน์อย่างไร
 - ก. ช่วยให้หยิบใช้ได้ง่าย
 - ข. ช่วยให้แต่งกายได้รวดเร็ว
 - ค. ช่วยให้แต่งกายได้สวยงาม
5. นักเรียนควรทำอย่างไรกับชุดชั้นในที่ตากแห้งแล้ว
 - ก. รีดแล้วพับเก็บ
 - ข. แขนงไว้ที่ราวตากผ้า
 - ค. พับเก็บเข้าที่ให้เรียบร้อย
6. เสื้อผ้าในข้อใดไม่ควรเก็บรวมไว้กับเสื้อผ้อื่นๆ
 - ก. เสื้อผ้าที่รีดแล้ว
 - ข. เสื้อผ้าที่ใส่แล้ว
 - ค. เสื้อผ้าที่ซักแล้ว
7. ใครปฏิบัติตนได้ถูกต้อง
 - ก. เพลงพาดเข็มขัดไว้ที่เก้าอี้
 - ข. เตยแขวนเสื้อที่ใส่แล้วไว้ในตู้เสื้อผ้า
 - ค. แบนควางรองเท้าไว้ที่ชั้นวางรองเท้า
8. เสื้อผ้าที่รีดและใส่ไม่แขวนไว้แล้วควรจัดเก็บที่ใด
 - ก. พาดบนเตียงนอน
 - ข. แขนงไว้ในตู้เสื้อผ้า
 - ค. แขนงไว้ที่ลูกบิดประตู
9. การวางเข็มขัดไว้บนพื้นอาจทำให้เกิดผลอย่างไร
 - ก. เข็มขัดเก่าเร็ว
 - ข. เข็มขัดขาดง่าย
 - ค. เผลอเหยียบแล้วลื่นล้ม
10. นักเรียนควรจัดเก็บถุงเท้าอย่างไร
 - ก. จัดเก็บเข้าคู่กัน
 - ข. มัดรวมกันเป็นคู่ๆ
 - ค. รวมใส่ในตะกร้าเดียวกัน

มฐ. ง 1.1 ป.2/1, 3

ได้คะแนน

คะแนนเต็ม

10

เฉลย

1. ก 2. ค 3. ข 4. ก 5. ค 6. ข 7. ค 8. ข 9. ค 10. ก

คำชี้แจง ให้นักเรียนเลือกคำตอบที่ถูกต้องที่สุดเพียงข้อเดียว

1. อุปกรณ์ใดใช้หนึ่งอาหาร
 - ก. หม้อ
 - ข. ลังถึง
 - ค. กระทะ
2. อุปกรณ์ใดควรจัดเก็บไว้ในที่เดียวกัน
 - ก. จาน - ชาม
 - ข. ช้อน - หม้อ
 - ค. ทัพพี - กระทะ
3. การจัดเตรียมอาหารก่อนนำไปประกอบอาหาร มีประโยชน์อย่างไร
 - ก. ทำให้อาหารมีรสชาติอร่อย
 - ข. ทำอาหารได้สะดวก รวดเร็ว
 - ค. ทำให้อาหารมีความสวยงาม
4. ในวัยของนักเรียนควรช่วยเตรียมประกอบอาหารในข้อใด จึงจะเหมาะสมที่สุด
 - ก. ต้มน้ำ
 - ข. ล้างผัก
 - ค. หั่นเนื้อสัตว์
5. การนำอาหารใส่กระทะที่มีน้ำมันเล็กน้อย แล้วพลิกอาหาร กลับไปมาจนสุกเป็นการประกอบอาหารด้วยวิธีการใด
 - ก. การผัด
 - ข. การลวก
 - ค. การทอด
6. นักเรียนควรใช้ภาชนะใดใส่แกงจืด
 - ก. จาน
 - ข. ชาม
 - ค. ทัพพี
7. ใครใช้อุปกรณ์ตักอาหารได้ถูกต้อง
 - ก. นักเรียนใช้ส้อมตักแกงจากถ้วย
 - ข. ดวงใช้ช้อนตักข้าวจากหม้อ
 - ค. แก้มใช้ทัพพีตักข้าวจากหม้อ
8. เราควรใช้มีดทำสิ่งใด
 - ก. หั่นผัก
 - ข. จัดฝากระป๋อง
 - ค. คนอาหารในหม้อ
9. การต้มไข่ควรทำในภาชนะใดจึงจะปลอดภัย
 - ก. ชามพลาสติก
 - ข. ถ้วยกระเบื้อง
 - ค. หม้ออะลูมิเนียม
10. เพราะเหตุใด ขณะล้างผลส้มจึงควรถูเปลือกส้มเบาๆ
 - ก. เพื่อให้เนื้อส้มนุ่มและฉ่ำ
 - ข. เพื่อให้ผิวส้มแวววาว สดใส
 - ค. เพื่อให้สิ่งสกปรกและสารเคมีออกไป

มฐ. ง 1.1 ป.2/1, 3

ได้คะแนน

คะแนนเต็ม




10

เฉลย

1. ข 2. ก 3. ข 4. ข 5. ก 6. ข 7. ค 8. ก 9. ค 10. ค

คำชี้แจง ให้นักเรียนเลือกคำตอบที่ถูกต้องที่สุดเพียงข้อเดียว

- ใครใช้เครื่องมือเกษตรได้เหมาะสม
 - หนุ่มนี้ใช้มีดตัดหญ้าลิดกิ่งไม้
 - หนูนาใช้บัวรดน้ำรดน้ำต้นมะม่วง
 - นิดหนอยใช้ส้อมพรวนย้ายต้นกล้า
- ก่อนใช้งานเครื่องมือเกษตรจะต้องทำอะไร
 - ทาน้ำมัน
 - ตรวจสอบสภาพ
 - ทำความสะอาด
- แจ่วแห้วต้องการกวาดเศษหญ้าและเศษใบไม้ไปที่แจ่วแห้วจะต้องใช้เครื่องมือเกษตรชนิดใด
 - พลั่ว และจอบ
 - คราด และจอบ
 - คราด และบั้ง
- ถ้านักเรียนไม่ศึกษาวิธีการใช้งานเครื่องมือเกษตรให้เข้าใจก่อนใช้งานจะเป็นอย่างไร
 - ประหยัดเวลาในการทำงานเกษตร
 - ใช้เครื่องมือเกษตรไม่เหมาะสมกับงาน
 - เครื่องมือเกษตรจะมีอายุการใช้งานยาวนาน
- เครื่องมือเกษตรชนิดใดมีลักษณะการใช้งานคล้ายกัน
 - จอบ และเสียม
 - ช้อนปลูก และคราด
 - พลั่ว และส้อมพรวน

- เพราะเหตุใดจึงไม่ใช้กรรไกรตัดหญ้าตัดก้านดอกไม้
 - เพราะต้นไม้อาจตายได้
 - เพราะดอกไม้จะช้ำและเสียหายได้
 - เพราะดอกไม้อาจร่วงโรยก่อนเวลา
- ทำไมกรรไกรตัดหญ้าต้องทาน้ำมันบริเวณที่เป็นโลหะ
 - เพื่อป้องกันสนิม
 - เพื่อให้ดูใหม่ตลอดเวลา
 - เพื่อให้กรรไกรคมอยู่เสมอ
- เมื่อใช้บั้งก็เสร็จแล้วควรทำอะไร
 - เก็บเข้าที่ทันที
 - ล้างให้สะอาด แล้วเก็บเข้าที่
 - ล้างให้สะอาด ผึ่งให้แห้ง แล้วเก็บเข้าที่
- นักเรียนควรใช้เครื่องมือเกษตรในภาพใดรดน้ำต้นขุ่น
 - 
 - 
 - 

- ถ้านักเรียนพบมีดตัดหญ้าที่ชำรุด นักเรียนควรทำอย่างไรจึงจะเหมาะสมที่สุด
 - นำไปทิ้ง
 - ซ่อมแซมด้วยตนเอง
 - แจ้งให้ผู้ปกครองทราบ

มฐ. ง 1.1 ป. 2/2

ได้คะแนน	คะแนนเต็ม
	10

เฉลย

1. ก 2. ข 3. ค 4. ข 5. ก 6. ข 7. ก 8. ค 9. ก 10. ค

คำชี้แจง ให้นักเรียนเลือกคำตอบที่ถูกต้องที่สุดเพียงข้อเดียว

1. เพลงไพรต้องการปลูกพันธุ์พืชไว้รับประทาน เพลงไพรควรปลูกพันธุ์พืชประเภทใด
 - ก. ไม้ดอก
 - ข. ไม้ประดับ
 - ค. ผักสวนครัว
2. ไม้ดอกและไม้ประดับแตกต่างกันอย่างไร
 - ก. ไม้ดอกเป็นพืชที่มีดอกสวยงาม แต่ไม้ประดับเป็นพืชที่มีลำต้นและใบสวยงาม
 - ข. ไม้ดอกเป็นพืชที่มีดอกสวยงาม แต่ไม้ประดับเป็นพืชที่เอาไว้ประดับตกแต่งจานอาหาร
 - ค. ไม้ดอกเป็นพืชที่นำดอกมาประกอบอาหาร แต่ไม้ประดับเป็นพืชที่นำมาประดับตกแต่งบ้าน
3. ทำไมจึงต้องนำเศษอิฐหรือหินมาใส่รองกันกระถางก่อนปลูกต้นพืช
 - ก. เพื่อเป็นธาตุอาหารให้ต้นพืช
 - ข. เพื่อเก็บกักความชุ่มชื้นในดิน
 - ค. เพื่อป้องกันไม่ให้ดินไหลออกนอกกระถางเวลารดน้ำ
4. ถ้าไม่มีกระบะเพาะในการเพาะเมล็ดในกระบะเพาะ เราควรใช้สิ่งใดทดแทนจึงจะเหมาะสมที่สุด
 - ก. ถังน้ำ
 - ข. ถุงพลาสติก
 - ค. กล่องกระดาษ
5. วิธีการใดช่วยรักษาความชุ่มชื้นในดินให้แก่ต้นกล้า
 - ก. รดน้ำบ่อยๆ
 - ข. ใช้ถุงคลุมดิน
 - ค. ใช้ฟางคลุมดิน
6. การขยายพันธุ์พืชวิธีการใดทำให้ได้ต้นกล้าในปริมาณมาก
 - ก. การเพาะเมล็ดแบบต้นเดียว
 - ข. การเพาะเมล็ดในแปลงเพาะ
 - ค. การเพาะเมล็ดในกระบะเพาะ
7. การพรวนดินมีประโยชน์อย่างไร
 - ก. ทำให้วัชพืชไม่ขึ้นรอบๆ ต้นกล้า
 - ข. ทำให้แร่ธาตุในดินมีปริมาณมากขึ้น
 - ค. ทำให้ดินร่วนซุย เพื่อให้รากพืชดูดซึมน้ำอาหารได้ดี
8. การดูแลแปลงเพาะกล้าในข้อใดเป็นการเพิ่มธาตุอาหารให้แก่ต้นกล้า
 - ก. ใส่ปุ๋ย
 - ข. รดน้ำ
 - ค. กำจัดวัชพืช
9. ทำไมจึงต้องฉีดน้ำแบบฝอยให้ต้นกล้า
 - ก. เพื่อต้นกล้าจะได้น้ำอย่างทั่วถึง
 - ข. เพื่อป้องกันต้นกล้าช้ำ เสียหาย
 - ค. เพื่อต้นกล้าจะได้เจริญเติบโตได้ดี
10. การกำจัดวัชพืชในข้อใดเหมาะสมที่สุด
 - ก. ถอนหรือขุดทิ้ง
 - ข. ใช้สารเคมีกำจัดวัชพืช
 - ค. ใช้แมลงศัตรูพืชเข้าไปกัดกินวัชพืช

มฐ. ง 1.1 ป./2/2

ได้คะแนน	คะแนนเต็ม
	10

เฉลย

1. ค 2. ก 3. ค 4. ข 5. ค 6. ข 7. ค 8. ก 9. ข 10. ก

คำชี้แจง ให้นักเรียนเลือกคำตอบที่ถูกต้องที่สุดเพียงข้อเดียว

1. ภาพใดเป็นงานช่าง




2. การเรียนรู้เกี่ยวกับงานช่างมีประโยชน์ต่อนักเรียนอย่างไร

- ก. ช่วยสร้างรายได้หลักให้แก่ครอบครัว
- ข. ช่วยซ่อมแซมสิ่งของที่ชำรุดให้กลับมาใช้ใหม่ได้
- ค. ช่วยให้มีความสามารถในการประกอบอาชีพในปัจจุบัน

3. วัตถุประสงค์ตัดแผ่นโฟมเป็นรูปสามเหลี่ยม ไม้ควรใช้

- ก. เลื่อย
- ข. กรรไกร
- ค. คัตเตอร์หรือมีด

4.  เครื่องมือช่างในภาพใช้ทำอะไร

- ก. ใช้วัดระยะต่างๆ ของชิ้นงาน
- ข. จับยึดชิ้นงานให้ประกอบติดกัน
- ค. ใช้ขันสกรูหรือนอตให้ติดกับชิ้นงาน

5. ใครใช้เครื่องมือช่างได้เหมาะสมกับงานมากที่สุด

- ก. แอร์ใช้ค้อนตอกตะปู
- ข. โอใช้เลื่อยตัดกระดาษ
- ค. เอใช้กรรไกรตัดแผ่นไม้อัด

6. วิธีการซ่อมแซมตำบไล้ควงหลุดวิธีการใดเหมาะสมที่สุด

- ก. ใช้ปูนหยอดลงไปใ้รูตำบไล้
- ข. ใช้กาวหยอดลงไปใ้รูตำบไล้
- ค. ใช้เทปกาวพันระหว่างตำบไล้กับตัวควง

7. ใครใช้เครื่องมือช่างในการทำงานได้เหมาะสมที่สุด

- ก. ตานาคีมตัดลวดที่ชำรุดมาใช้งาน
- ข. ตูมตามใส่ตะปูไว้ในกระเป๋ากางเกง
- ค. ต้มศึกษาวิธีการใช้ควงให้เข้าใจก่อนใช้งาน

8. วิธีการดูแลรักษาประแจในข้อใดถูกต้อง

- ก. ทาน้ำมันกันสนิม
- ข. แชไว้ในน้ำสะอาด
- ค. ล้างให้สะอาด แล้วตากแดดให้แห้ง

9. การดูแลรักษาเครื่องมือช่างอย่างถูกวิธีมีประโยชน์อย่างไร

- ก. ช่วยให้สะดวกในการค้นหาเครื่องมือช่าง
- ข. ช่วยให้เครื่องมือช่างมีอายุการใช้งานยาวนาน
- ค. ช่วยให้ประหยัดพื้นที่ในการจัดเก็บเครื่องมือช่าง

10. ประโยชน์ที่สำคัญที่สุดของการประกอบของเล่นคืออะไร

- ก. ช่วยให้ประหยัดค่าใช้จ่าย
- ข. ได้เล่นของเล่นตามที่ต้องการ
- ค. มีของเล่นที่สวยงาม ไม่เหมือนใคร

มฐ. ง 1.1 ป./2/2

ได้คะแนน

คะแนนเต็ม

10

เฉลย

1. ก 2. ข 3. ค 4. ข 5. ก 6. ข 7. ค 8. ก 9. ข 10. ก


คำชี้แจง ให้นักเรียนเลือกคำตอบที่ถูกต้องที่สุดเพียงข้อเดียว

1. นกน้อยต้องการนำวัสดุธรรมชาติมาประดิษฐ์เป็นการจัดวयर นกน้อยจะต้องเลือกใช้วัสดุในภาพใด



2. เพราะเหตุใดจึงต้องเลือกใช้วัสดุและเศษวัสดุที่หาได้ง่ายในห้องเรียนมาประดิษฐ์งานประดิษฐ์

- ก. เพื่อช่วยประหยัดรายจ่ายในการซื้อวัสดุ
ข. เพื่อให้งานประดิษฐ์มีความสวยงาม ไม่เหมือนใคร
ค. เพื่อให้งานประดิษฐ์มีความทนทานต่อสภาพภูมิอากาศ

3.  งานประดิษฐ์ในภาพจะต้องใช้เครื่องมือใดในการประดิษฐ์

- ก. พู่กัน เข็ม ตะปู ข. กรรไกร กาว เข็ม
ค. มีด วงเวียน ไม้บรรทัด

4. เพราะเหตุใดจึงควรดัดแปลงสิ่งของเก่าให้มีรูปแบบที่แปลกใหม่และดียิ่งขึ้น

- ก. เพื่อความสวยงาม ข. เพื่อความทันสมัย
ค. เพื่อประโยชน์ในการใช้งาน

5. นักเรียนระดับชั้นประถมศึกษาปีที่ 2 ควรใช้สิ่งใดร่างแบบของเล่นจึงจะเหมาะสมที่สุด

- ก. ดินสอ ข. สีเมจิก
ค. คอมพิวเตอร์

6. ฟังก์ชันการประดิษฐ์ถ่วงมือกันความร้อน เพื่อใช้กันความร้อนเวลาช่วยคุณแม่ทำอาหาร ฟังก์ชันใช้กระบวนการทำงานประดิษฐ์ขั้นตอนใด

- ก. ประเมินผลงาน ข. ลงมือปฏิบัติงาน
ค. กำหนดปัญหาหรือความต้องการ

7. การนำสิ่งประดิษฐ์ไปทดลองใช้อยู่ในขั้นตอนใดของกระบวนการเทคโนโลยี

- ก. กำหนดปัญหาหรือความต้องการ
ข. ทดสอบ ปรับปรุงแก้ไข และประเมินผลการทำงาน
ค. วางแผนการทำงานอย่างเป็นขั้นตอน และปฏิบัติตามแผนที่วางไว้

8. ถ้าไม่มีกระดาษชนิดยาสาร เราสามารถใช้สิ่งใดทดแทนกรอบรูปแทนได้

- ก. ใโปไม้ ข. ถูพลาสติก
ค. กระดาษห่อของขวัญ

9. มดตะนอยคิดงานประดิษฐ์ที่แปลกใหม่ไม่ซ้ำกับของเดิม แสดงว่ามดตะนอยใช้ความคิดสร้างสรรค์ในด้านใด

- ก. ความคิดริเริ่ม ข. ความคล่องในการคิด
ค. ความคิดละเอียดลออ

10. ใครมีความคิดละเอียดลออ

- ก. ลูกน้ำคิดได้หลายแนวทาง
ข. ลูกแพร์คิดไตร่ตรองอย่างถี่ถ้วน
ค. ลูกนัทคิดอย่างรวดเร็ว และได้ชิ้นงานหลายชิ้น

มฐ. ง 1.1 ป.2/2

ง 2.1 ป.2/1-4

ได้คะแนน	คะแนนเต็ม
	10

2. ก 3. ข 4. ค 5. ก 6. ค 7. ข 8. ค 9. ก 10. ข

คำชี้แจง ให้นักเรียนเลือกคำตอบที่ถูกต้องที่สุดเพียงข้อเดียว

1. ข้อมูลมีความหมายอย่างไร
 - ก. เหตุการณ์เกี่ยวกับสิ่งต่างๆ
 - ข. ข้อเท็จจริงของสถานที่ต่างๆ
 - ค. ข้อเท็จจริง หรือเหตุการณ์ที่เกี่ยวข้องกับคน สัตว์ สิ่งของ สถานที่
2. หนูนอ่านนิตยสารพบวิธีการประดิษฐ์กล่องใส่ดินสอ จึงนำมาทดลองประดิษฐ์ หนูนใช้ประโยชน์ของข้อมูลในด้านใด
 - ก. ด้านการเรียนรู้
 - ข. ด้านการสื่อสาร
 - ค. ด้านการตัดสินใจ
3. แหล่งข้อมูลใดที่นักเรียนควรเลือกใช้
 - ก. แหล่งข้อมูลที่เป็นที่นิยม
 - ข. แหล่งข้อมูลทางราชการที่น่าเชื่อถือ
 - ค. แหล่งข้อมูลที่ได้จากการฟังเพื่อนเล่า
4. แหล่งข้อมูลใดเป็นแหล่งข้อมูลขั้นต้น
 - ก. การชมนิทรรศการ
 - ข. การดูรายการสารคดี
 - ค. การสัมภาษณ์เกษตรกร
5. หนังสือพิมพ์ให้ข้อมูลใดมากที่สุด
 - ก. ความรู้ทางวิชาการ
 - ข. ข่าวสาร เหตุการณ์ต่างๆ
 - ค. ประวัติบุคคลสำคัญต่างๆ
6. เพราะเหตุใดจึงต้องรวบรวมข้อมูลที่ต้องการจากแหล่งข้อมูลหลายๆ ที่
 - ก. เพื่อให้ได้ข้อมูลที่ถูกต้อง
 - ข. เพื่อให้ได้ข้อมูลที่ทันสมัย
 - ค. เพื่อให้ได้ข้อมูลปริมาณมาก
7. เพราะเหตุใดจึงต้องจัดการข้อมูลให้เป็นระบบ
 - ก. เพื่อให้ข้อมูลมีความถูกต้อง
 - ข. เพื่อให้สะดวกในการหยิบใช้ข้อมูล
 - ค. เพื่อให้เกิดความเป็นระเบียบ เรียบร้อย
8. การเก็บข้อมูลวิธีการใดต้องใช้การสอบถาม
 - ก. การสัมภาษณ์วิทยากร
 - ข. การรวบรวมจากเอกสาร
 - ค. การทัศนศึกษานอกสถานที่
9. นักเรียนสามารถจำแนกข้อมูลให้เป็นหมวดหมู่ได้อย่างไร
 - ก. จัดแยกตามที่มาของข้อมูล
 - ข. จัดแยกประเภทตามเนื้อหาของข้อมูล
 - ค. จัดแยกตามเหตุการณ์ก่อน-หลังของข้อมูล
10. การเก็บรวบรวมข้อมูลวิธีการใดเหมาะสำหรับนักเรียนชั้นประถมศึกษาปีที่ 2 มากที่สุด
 - ก. การศึกษาค้นคว้าข้อมูลจากห้องสมุด
 - ข. การสัมภาษณ์ผู้เชี่ยวชาญแต่ละสาขา
 - ค. การสังเกตการเพาะเลี้ยงเห็ดที่ฟาร์มเห็ดตัวอย่าง










มฐ. ง 3.1 ป.2/1-2

ได้คะแนน	คะแนนเต็ม
	10

เฉลย

1. ค 2. ก 3. ข 4. ค 5. ข 6. ก 7. ข 8. ก 9. ข 10. ก

คำชี้แจง ให้นักเรียนเลือกคำตอบที่ถูกต้องที่สุดเพียงข้อเดียว

1. คอมพิวเตอร์มีประโยชน์อย่างไร
 - ก. ทำให้คนว่างงานเพิ่มขึ้น
 - ข. ทำให้เกิดแหล่งความรู้ที่ดี
 - ค. ทำให้เสียค่าติดต่อสื่อสารกันมากขึ้น
2. ใครใช้คอมพิวเตอร์ได้เกิดประโยชน์สูงสุด
 - ก. มินใช้คอมพิวเตอร์สนทนากับเพื่อน
 - ข. แม็กใช้คอมพิวเตอร์เล่นเกมออนไลน์
 - ค. ไหมใช้คอมพิวเตอร์ค้นหาข้อมูลเพื่อทำรายงาน
3. การกดปุ่มที่เมาส์ไม่ต้องใช้นิ้วใด
 - ก. นิ้วชี้
 - ข. นิ้วนาง
 - ค. นิ้วกลาง
4. ตัวชี้ตำแหน่งของเมาส์ (Mouse Pointer) มีรูปร่างอย่างไร
 - ก. 
 - ข. 
 - ค. 
5. ปุ่มกดใดอยู่ในส่วนของแป้นฟังก์ชัน
 - ก. 
 - ข. 
 - ค. 
6. นพต้องการลบตัวอักษรที่อยู่หน้าเคอร์เซอร์ นพจะต้องกดปุ่มใด
 - ก. 
 - ข. 
 - ค. 
7. จอภาพเกี่ยวข้องกับการทำงานของคอมพิวเตอร์ชั้นตอนใด
 - ก. รับข้อมูล
 - ข. แสดงผลข้อมูล
 - ค. ประมวลผลข้อมูล
8. อุปกรณ์ใดทำหน้าที่แสดงผลข้อมูลเสียง
 - ก. ลำโพง
 - ข. จอภาพ
 - ค. เครื่องพิมพ์
9. การบันทึกข้อมูลลงแผ่นบันทึกซีดีแตกต่างกับการบันทึกข้อมูลลงแฟลชไดรฟ์อย่างไร
 - ก. การบันทึกข้อมูลลงแผ่นบันทึกซีดีจะต้องทำงานผ่านโปรแกรมบันทึกข้อมูล ส่วนการบันทึกข้อมูลลงแฟลชไดรฟ์สามารถทำได้ทันที
 - ข. การบันทึกข้อมูลลงแผ่นบันทึกซีดีสามารถบันทึกได้เฉพาะข้อมูลภาพและเสียง ส่วนการบันทึกข้อมูลลงแฟลชไดรฟ์สามารถบันทึกได้เฉพาะข้อมูลตัวอักษร
 - ค. การบันทึกข้อมูลลงแผ่นบันทึกซีดีจะนำข้อมูลไปใช้กับเครื่องเล่นเสียงได้เท่านั้น ส่วนการบันทึกข้อมูลลงแฟลชไดรฟ์สามารถนำข้อมูลไปใช้กับคอมพิวเตอร์เครื่องอื่นได้
10. อุปกรณ์ใดทำหน้าที่เป็นหน่วยรับข้อมูลตัวอักษร สัญลักษณ์ และตัวเลข
 - ก. เมาส์
 - ข. เครื่องพิมพ์
 - ค. แผงแป้นอักขระ

มฐ. ง 3.1 ป.2/3

ได้คะแนน	คะแนนเต็ม
	10

เฉลย

1. ข 2. ค 3. ข 4. ก 5. ค 6. ก 7. ข 8. ก 9. ก 10. ค